




COLEGIO DOMINGO EYZAGUIRRE SAN BERNARDO
ASIGNATURA: CIENCIAS NATURALES
PROFESORA: ANNIA DOMÍNGUEZ RAMÍREZ



PRUEBA N° 3

Nombre:	Curso: 1er año A
Puntaje de la prueba: 14 puntos	Puntaje:
Fecha inicio:	

Descripción Curricular de la Evaluación

Objetivos a evaluar NIVEL 1 (2020)	OA 11
Habilidades a evaluar	Explorar, seguir instrucciones, comunicar
Total de puntos	14 puntos

INSTRUCCIONES:

Queridos alumnos la presente Prueba debes contestarla sin ayuda de tus apuntes, su objetivo es saber cuánto han aprendido hasta el momento y poder reforzarlos aprendizajes que les han presentado dificultades.

1.-¿Qué nombre recibe la estrella que le entrega luz a nuestro planeta?

- A Tierra.
- B Sol.
- C Luna.



2.-¿Qué podemos ver de día y de noche?

- A El Sol.
- B La Luna.
- C Las estrellas.




3.-¿En qué momento del día podemos observar el Sol en lo más alto del cielo?

- A Al amanecer.
- B Al mediodía.
- C Al anochecer.

4.-¿Cuál de los siguientes animales es diurno?



5.-¿Cuál de los siguientes animales es nocturno?



6.-¿Cuál es el orden correcto de las estaciones?

A invierno- verano- primavera- otoño.

B invierno-primavera-verano-otoño.

C invierno-otoño-primavera-verano.

7.-¿En qué estación del año florecen algunos árboles?

A Verano.

B Invierno.

C Primavera.