



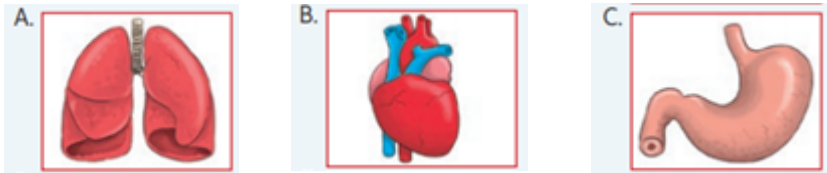
## GUÍA DE APRENDIZAJE CIENCIAS NATURALES

NOMBRE :		CURSO: 3° C
FECHA:	Marzo 2020	Tiempo Pedagógico: 90 minutos
Puntaje Real: 26	Puntaje Obtenido:	

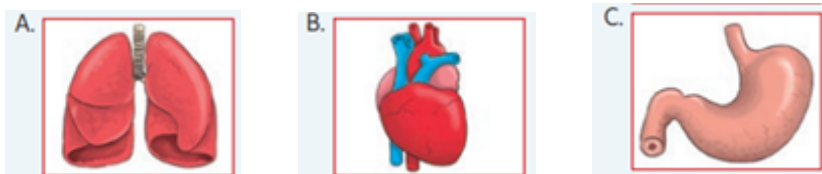
CONTENIDOS A EVALUAR	<ul style="list-style-type: none"><li>- Identificar la ubicación y función de algunas partes del cuerpo humano (corazón, pulmones, estomago, esqueleto y músculos) y sistemas correspondientes.</li><li>- Importancia de la actividad física para el cuerpo.</li><li>- Clasificar animales vertebrados e invertebrados según sus características.</li><li>- Reconocer ciclos de vidas de animales, identificando sus etapas.</li><li>- Identificar tipos de hábitats, reconociendo sus características y animales que habitan en ellas.</li><li>- Identificar algunos animales nativos en peligro de extinción.</li></ul> Reconocer importancia, características y estados del agua.
HABILIDADES A EVALUAR	<ul style="list-style-type: none"><li>- Analizar</li><li>- Clasificar</li><li>- Comparar</li></ul>

I- Selección única. Marque con una X la alternativa correcta.

1.- ¿Qué órgano bombea sangre a todas las partes de nuestro cuerpo? 1 Pto.



2.- ¿Qué órgano está ubicado en el abdomen y permite la digestión de los alimentos? 1Pto.



3.- ¿Qué función cumple el corazón? 1Pto.

- a) Extraer los nutrientes de los alimentos
- b) Permitir el movimiento del cuerpo
- c) Bombear sangre para todo el cuerpo

4.- Las extremidades inferiores corresponden a: 1Pto.

- a) Las piernas.
- b) La columna.

c) Los brazos.

5.- ¿Cuál es el órgano principal del sistema respiratorio? 1Pto.

- a) El corazón
- b) El estómago
- c) Los pulmones

6.- ¿Cómo son los músculos? 1Pto.

- a) Estructuras duras y blandas
- b) Estructuras duras y rígidas
- c) Estructuras blandas y elásticas

7.- El órgano principal del sistema digestivo es: 1Pto


- a) Corazón
- b) Pulmón
- c) Estómago

8.- ¿Cuál es el órgano principal del sistema circulatorio? 1Pto.

- a) Corazón.
- b) Pulmón.
- c) Esqueleto.

9.- Los siguientes animales, pertenecen al grupo de: (1pto)

- a) Vertebrados- Peces
- b) Vertebrados- Reptiles
- c) Vertebrados- Mamíferos



10.- Los animales que nacen del **vientre de su madre**, se llaman: (1pto)

- a) Ovíparos
- b) Aves.
- c) Vivíparos

11.- Los animales que **nacen de un huevo**, se llaman: (1 pto)

- a) Vivíparos
- b) Ovíparos
- c) Aves




12.- La característica principal de los animales **invertebrados**, es: **(1pto)**

- a) Que tienen un esqueleto interno y una columna vertebral
- b) Que tienen cuerpo duro
- c) Que No poseen una columna vertebral


13.- Estos animales pertenecen al grupo de: **(1pto)**

- a) Invertebrados- moluscos
- b) Invertebrados- crustáceos
- c) Invertebrados- insectos



14.- Con respecto al ciclo de vida de una mariposa. ¿Cuál es el orden correcto de su desarrollo? **(1pto.)**

- a) Mariposa adulta- huevo- larva- pupa.
- b) Huevo- larva-pupa- mariposa adulta
- c) Pupa- larva-huevo- mariposa adulta.



15.- ¿Qué animal nativo chileno se encuentra en peligro de extinción? 1Pto.

- a) Huemul
- b) conejo
- c) Gato

16.- ¿Qué quiere decir que el agua sea "insípida"? 1Pto.

- a) Tiene sabor
- b) No tiene sabor
- c) No tiene color

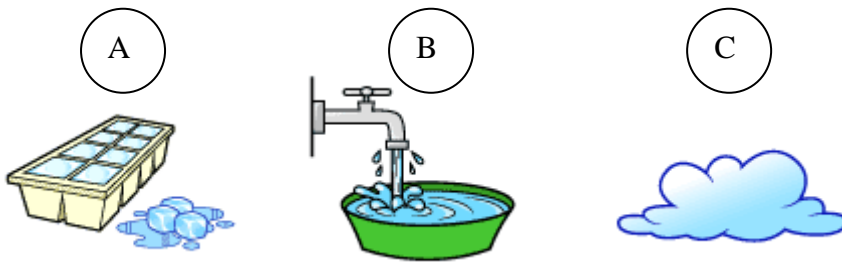
17.- El agua es: 1Pto.

- a) Transparente
- b) De color azul
- c) De color celeste

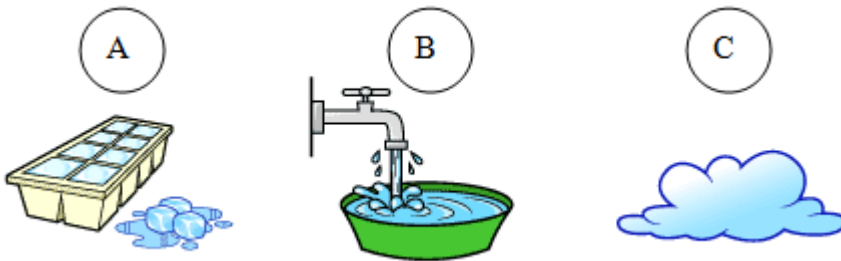
18.- Los estados del agua son: 1Pto.

- a) Sólido y líquido
- b) Líquido y gaseoso
- c) Sólido, líquido y gaseoso

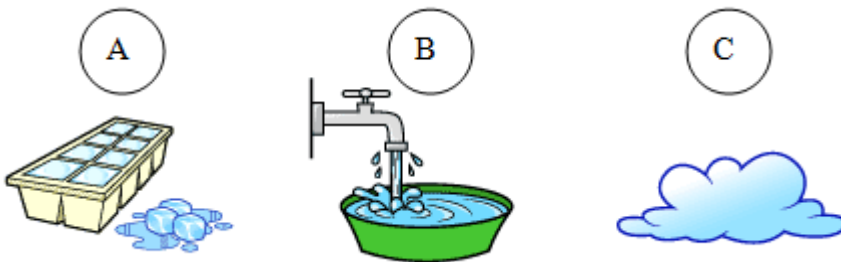
19.- Un ejemplo del agua en estado líquido es: 1Pto.



20.- Un ejemplo del agua en estado sólido es: 1Pto.



21.- Un ejemplo del agua en estado gaseoso es: 1Pto.





22.- ¿En qué imagen se realiza una buena acción para cuidar nuestro medio ambiente? 1Pto.



a)



b)



c)

23.- ¿Qué instrumento mide la **temperatura** del ambiente? 1Pto.

- A) Termómetro
- B) Veleta
- C) Pluviómetro

24.- ¿En qué estación del año usamos paraguas? 1Pto.

- A) Verano
- B) Primavera
- C) Invierno

25.- ¿En qué estación del año vamos a la piscina y usamos traje de baño? 1Pto.

- A) Otoño
- B) Verano
- C) invierno

26.- ¿En qué estación los árboles pierden sus hojas? 1Pto.

- A) Verano
- B) Primavera
- C) Otoño