



GUÍA DE APLICACIÓN.

Historia, Geografía y Ciencias Sociales.

NOMBRE:	CURSO: 2º básico C
FECHA: marzo del 2020	

Descripción Curricular de la Evaluación

Aprendizaje claves a Evaluar	<ul style="list-style-type: none">- Respetar normas de buena convivencia- Secuenciar cronológicamente eventos cotidianos- Orientarse en el espacio y tiempo- Ubicar a Chile en el mapa. Diferenciar mapas y planos
-------------------------------------	---

I. COMPRESION DE LECTURA

Lee con atención y marca la alternativa correcta con una equis X. (1 punto cada una)

La sala del 1º básico de la Escuela Aprendamos Más está desordenada y sucia. En ella podemos ver a una niña botando basura al suelo, un niño molesto mirándose el zapato porque pisó chicle y otra niña buscando su cuaderno entre todo el desorden. ¿Cómo podrías ayudar a que esta sala sea un mejor lugar para estudiar?

1.- ¿Cómo podrías ayudar a que esta sala de clases sea un mejor lugar para estudiar?

- a) Ayudando a buscar los cuadernos de la niña
- b) Gritando para que se comporten
- c) Estableciendo entre todos los compañeros normas de convivencia

2.- ¿Por qué es importante tener normas de buena convivencia?

- a) Porque nos hace mejores que los demás
- b) Porque nos ayuda a respetar a los demás
- c) Porque nos enseña a estudiar

3.- Según el texto ¿Qué norma de convivencia ayudaría a los niños del 1º básico?

- a) Mantener la sala de clases limpia y ordenada
- b) No correr en la sala de clases para evitar accidentes
- c) No comer chicle en la sala de clases

II. SELECCIÓN ÚNICA.

Lee atentamente y responde marcando una X la alternativa correcta (2 puntos cada una)

4.- Los días de la semana son:

- a) Cinco días
- b) Seis días
- c) Siete días

5.- Los meses del año son:

- a) Cuatro meses
- b) Diez meses
- c) Doce meses

6.- ¿Qué medida de tiempo tiene un mes?

- a) Días
- b) Años
- c) Horas

7.- Marca la actividad que corresponde a lo que se realiza al mediodía.



a)



b)



c)

8.- ¿Qué actividad requiere de mayor tiempo para realizarla?



a)

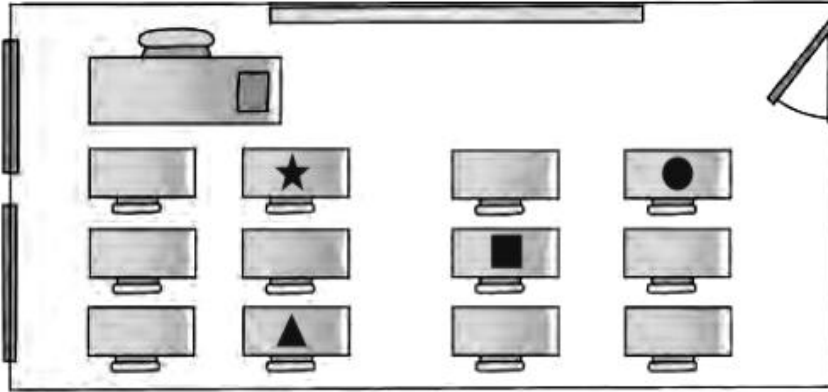


b)



c)

Observa la siguiente imagen y responde las preguntas 9, 10 y 11



9.- La imagen representa a:

- a) Un mapa
- b) Un plano de un dormitorio
- c) Un plano de una sala de clases

10.- ¿Qué banco se encuentra al lado izquierdo de la pizarra?



a)



b)



c)

11.- Al lado derecho de la pizarra, encontramos

- a) Las ventanas
- b) El banco del profesor (a)
- c) La puerta

12.- En el siguiente mapa, la parte pintada corresponde a:

- a) Chile
- b) Perú
- c) Argentina





13.- Según el mapa anterior, ¿Chile se encuentra en el continente de?

- a) Europa
- b) África
- c) América

14.- La capital de Chile es:

- a) El bosque
- b) Santiago
- c) San Bernardo


15.- La comuna en que vives es:

- a) El Bosque
- b) San Bernardo
- c) Santiago


16.- ¿Cuál de las siguientes imágenes representa mejor el compañerismo?



a)



b)



c)

17.- Cuando estoy con amigos debo aceptar a todos por igual, incluso a los que no piensan como yo. Cuando lo hago estoy practicando la:

- a) Solidaridad.
- b) Tolerancia
- c) Respeto

III. APLICACIÓN.

Sigue las instrucciones (2 puntos cada una)

18.- Enumera las actividades con 1- 2- 3, según corresponda.

