



Colegio Domingo Eyzaguirre
San Bernardo
Segundo año básico

GUIA SUMATIVA DE CIENCIAS


NOMBRE:	CURSO: 2ºbásico _____
PUNTAJE IDEAL: 36 pts	PUNTAJE OBTENIDO:

1 Según lo trabajado y lo que tú has experimentado en clases el día se produce por(2pts)

- a) Porque el brillar de las estrellas nos proporcionan luz
- b) Porque el sol ilumina una parte de la tierra
- c) Porque el reflejo de la luna ilumina sobre la tierra

2 Al explorar esta imagen nos damos cuenta que esta actividad la realizamos de: (2pts)

- a) De día
- b) De tarde
- c) De noche

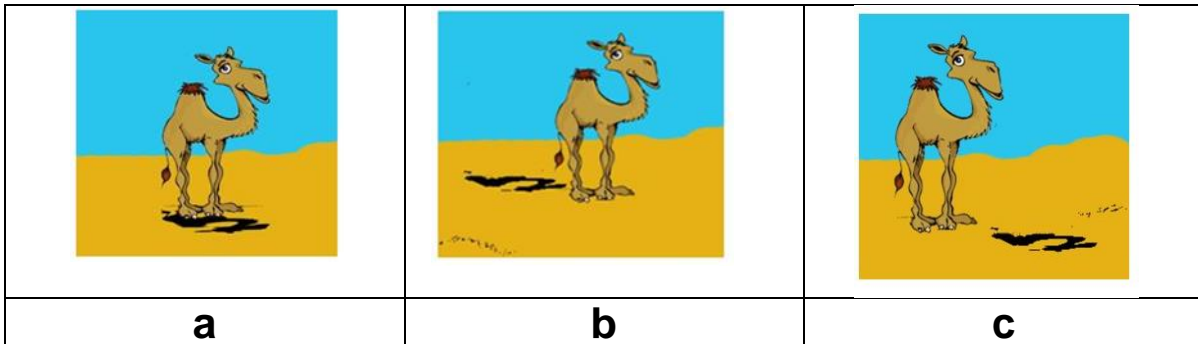


3 según las características observadas en este animal el realiza sus actividades en. (2pts)

- a) La tarde
- b) La noche
- c) El día



4 Según las características observadas en las siguientes imágenes ¿Cuál de ellas representa el medio día según la sombra? Encierra la letra en un círculo. (2pts)




5 - Según lo que tú has experimentado responde. (2pts)

- a) En la noche llegan los rayos del sol

- b) En el día el ambiente es más caluroso que en la noche
- c) En la noche hace más calor que en el día

6 -En el espacio podemos encontrar muchos astros, a continuación, observa las siguientes imágenes e identifica cuales son: (2pts)

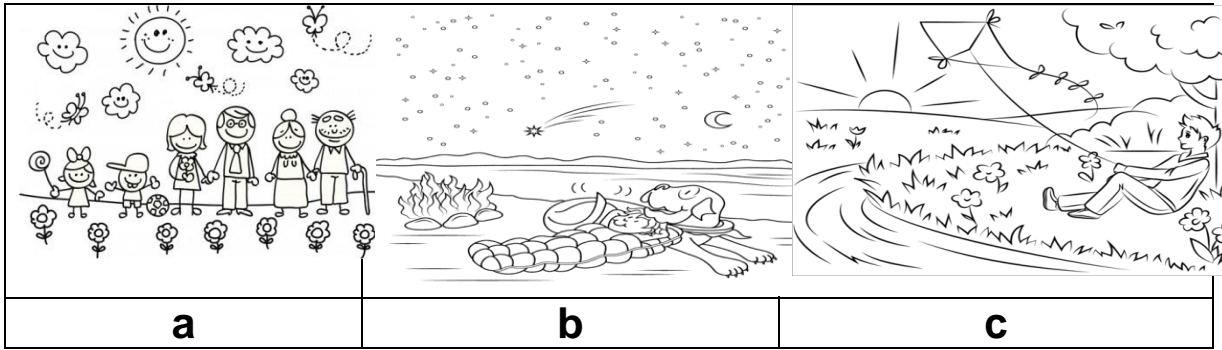
- a) La luna y el sol
- b) El sol y las estrellas
- c) Las estrellas y el sol



7 El astro que predomina durante el día es: (2pts)

- a) Las estrellas
- b) La luna
- c) El sol

8- Compara las imágenes y marca las que contiene los astros que observamos durante la noche (2pts)



9- Explora la imagen y responde según tu experiencia en qué momento del realizas esta actividad.


(2pts)

- a) El día
- b) La noche
- c) La mañana



10- Según las características observadas en este animal el desarrolla sus actividades de: (2pts)

- a) En el día
- b) En la noche
- c) Al atardecer




11- Según lo trabajado, en nuestro

país las estaciones de verano  se presentan en: (2pts)

- a) Junio, julio, agosto y septiembre
- b) Diciembre, enero, febrero y marzo
- c) Septiembre, octubre, noviembre y diciembre

12 Observa las imágenes y luego ordena las estaciones del año desde primavera a invierno.(2pts)

- a) 3,2,4,1
- b) 4,1,2,3
- c) 2,1,3,4




13) Al explorar los elementos de esta imagen ella nos indica que estamos estación de : (2pts)

- a) Otoño
- b) Invierno
- c) primavera



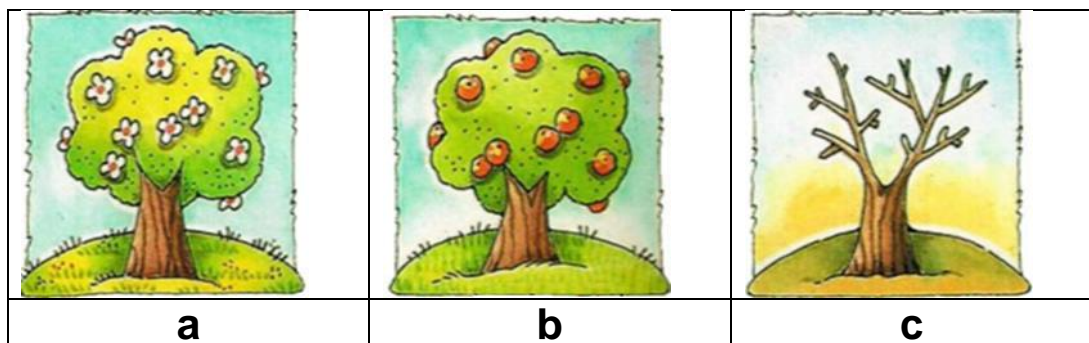
14 Compara las imágenes representadas y marca la indican que estamos en verano . (2pts)



15 Según lo experimentado ¿Cuales son las características que indica que estamos en la estación de primavera ? (2pts)

- a) El viento sopla fuerte y llueve.**
- b) Los arboles florecen y nacen crías.**
- c) El cielo tiene muchas nubes y llueve.**

16 observa las imágenes e idéntica cuál de las siguientes imágenes corresponde a la estación de verano (2pts)



17 Según lo que tú has experimentado las características propias del clima de invierno son : (2pts)

- a) Es frío y luminoso.**
- b) Es lluvioso y frío.**
- c) Es caluroso y lluvioso.**

18 Presta atención a la imagen y responde ¿Por qué el insecto lo podemos observar en verano y pero no en invierno? (2pts)

- a) busca agua para su familia.**
- b) recolecta comida para pasar el invierno.**
- c) arregla su nido para el nacimiento de sus crías.**



¡Responde y revisa cada pregunta!