



GUIA DE HISTORIA N°3

SEGUNDO BASICO

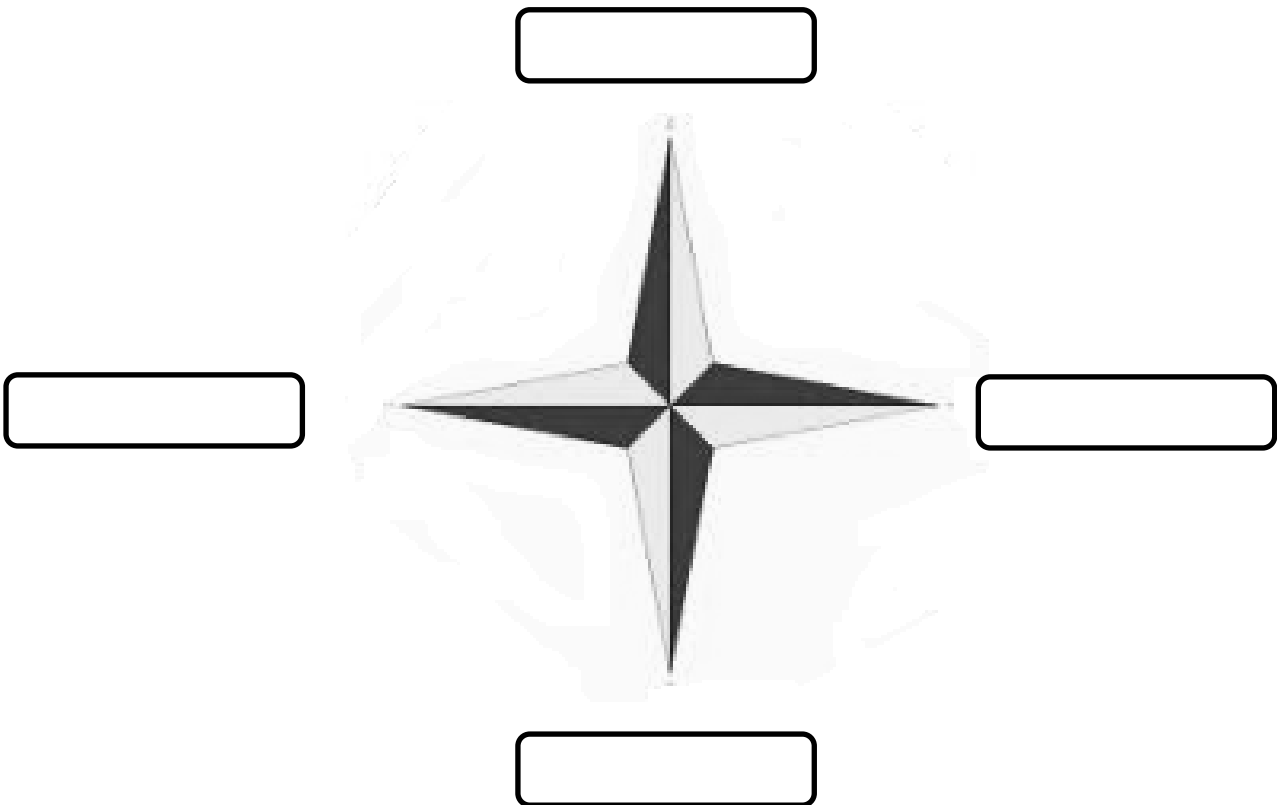
NOMBRE: _____

CURSO: 2° AÑO __

¡Hola! Para desarrollar esta guía, es muy importante que tengas a mano tu texto de Historia y realiza las actividades hasta la página 21. No olvides pedirle a un adulto que te supervise en las tareas.




I.- Observa la rosa de los vientos y escribe el nombre de los puntos cardinales según corresponda.





II.- Describe la ubicación de los siguientes objetos del plano usando los puntos cardinales y lugares de referencia.

Ejemplo: El perro está al oeste del árbol, al norte de la estrella.



Siguiendo el ejemplo anterior, completa el siguiente cuadro.

1.- Montaña:

2.- abuela:

3.- árbol:

4.- Estrella:

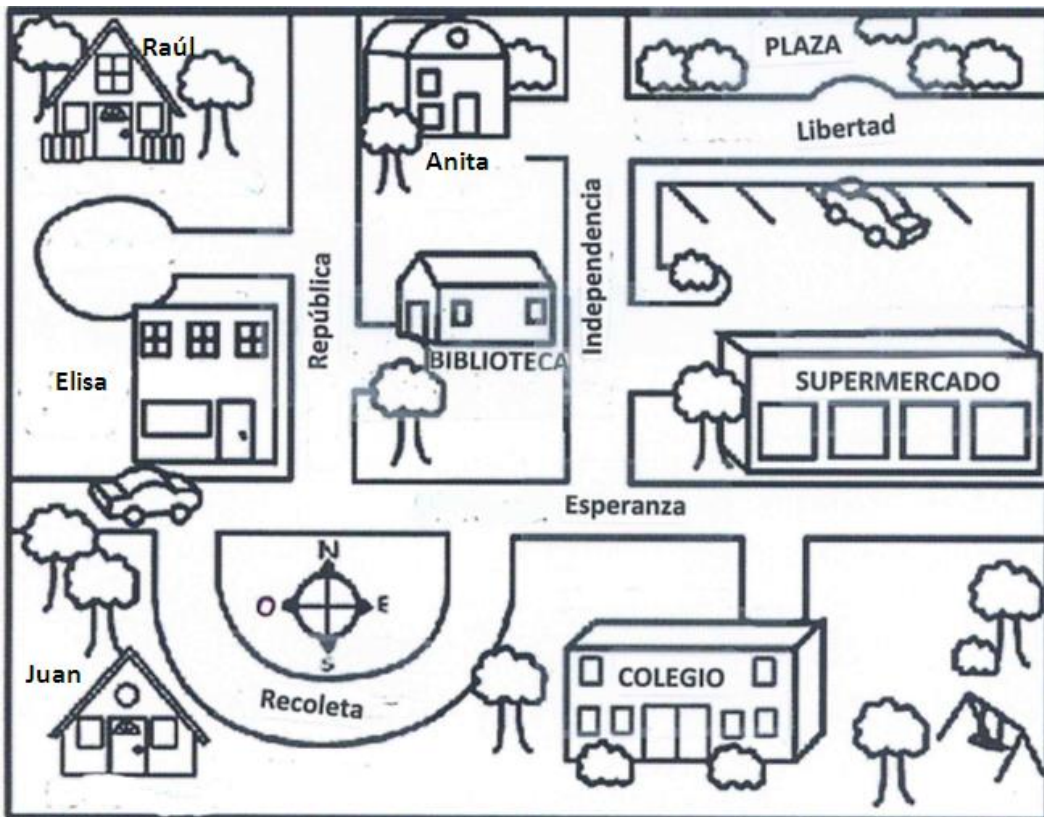
5.- Pato:

6.- Niño:

7.- Oso:



III.- RECORRE EL BARRIO




Observa el plano y responde, siguiendo las instrucciones.

- 1.- Pinta de color azul la institución que se encuentra al **sur** del supermercado.
- 2.- Pinta de color rojo la institución que se encuentra al **oeste** del supermercado.
- 3.- Juan desea ir a la casa de Elisa, para esto debe caminar hacia el _____.
- 4.- Raúl quiere ir a la plaza, para esto debe dirigirse hacia el _____.
- 5.- Si estás en la biblioteca y una persona te pregunta cómo se puede llegar al colegio ¿Qué instrucciones le darías?

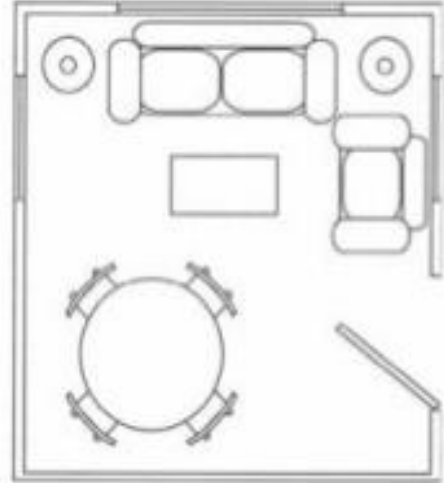


IV.- Pinta cada mueble de la habitación de un color diferente. Luego, en el plano, pinta cada objeto con el mismo color.

Habitación



Plano de la habitación



Pinta cada recuadro con el color que usaste en la actividad anterior.

Sofá

ventana

Lámpara

Mesa de centro

comedor

Puerta

V.- Escribe con tus palabras ¿Qué son los planos?

Los planos son:



¡Felicitaciones!
Hiciste un excelente
trabajo.