



Guía de matemática N°3

Segundo básico

NOMBRE:	CURSO: 2° AÑO _____
---------	---------------------

- 1) Completa la secuencia 2 en 2,5 en 5, 10 en 10 de adelante hacia atrás y de atrás en adelante.

		6			12				20
--	--	---	--	--	----	--	--	--	----

5			20			35			
---	--	--	----	--	--	----	--	--	--


	20			50			80		
--	----	--	--	----	--	--	----	--	--

50				30			15		
----	--	--	--	----	--	--	----	--	--

20			14			8		4	
----	--	--	----	--	--	---	--	---	--

2) Lee atentamente y responde

- a) Camila juega a contar de 5 en 5 los pasos que da al caminar primero hasta su casa y luego al circo. Completa los números que faltan para llegar a los lugares señalados.






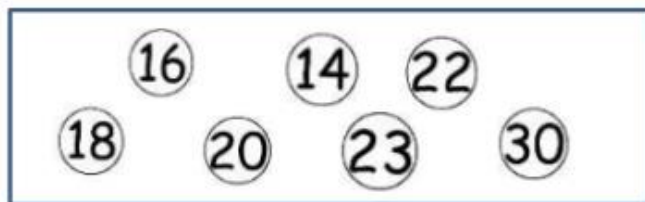
b) Claudia contara pasos de 10 en 10 para llegar donde su hermano francisco, completa los espacios que faltan.



20				60	
----	--	--	--	----	--

3.- Ordena los siguientes números de menor a mayor

a)



b) 12, 18, 23, 35, 10, 25, 31, 9

--	--	--	--	--	--	--	--



c) 31, 50, 25, 43, 18, 22, 49, 34

--	--	--	--	--	--	--	--



Ordena de mayor a menor

a)



b) 16, 15, 23, 12, 16, 10, 14, 18

--	--	--	--	--	--	--	--

c) 50, 28, 45, 17, 26, 13, 17, 48,

--	--	--	--	--	--	--	--

¡MUY BIEN!
TERMINASTE TU TRABAJO

