



Guía Pedagógica N°6.
(Evaluación formativa)

Nombre:	Curso: 2° C
Fecha inicio:	Fecha Presentación:

Descripción Priorización Curricular

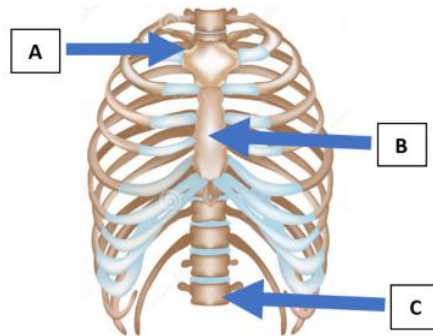
Unidad	N° 2: "Vertebrados e invertebrados y sus ciclos de vida"
Objetivo de Aprendizaje	OA 3: Observar y comparar las características de las etapas del ciclo de vida de distintos animales (Mamíferos, aves, insectos y anfibios), relacionándolas con su hábitat.
Habilidades a evaluar	Analizar, comunicar de manera escrita y secuenciar
Contenido	Ciclo de vida

I. Refuerzo de contenidos de unidad 1

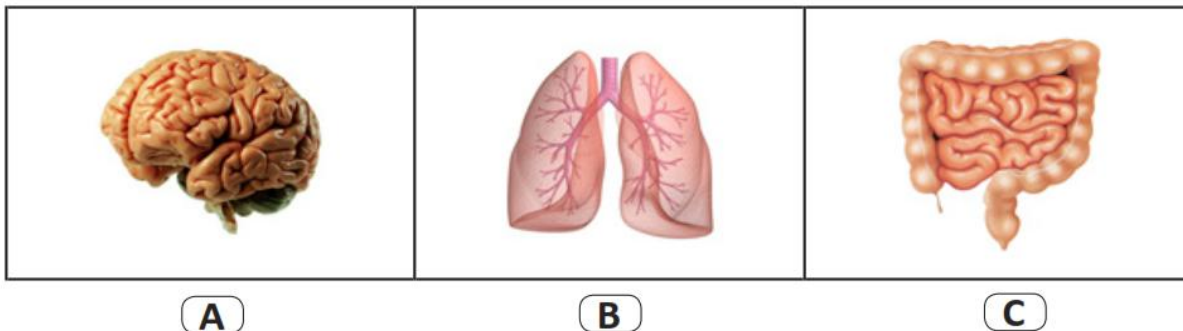
Marca con una X la alternativa correcta.

1.- ¿En qué parte del tórax se ubica el corazón?

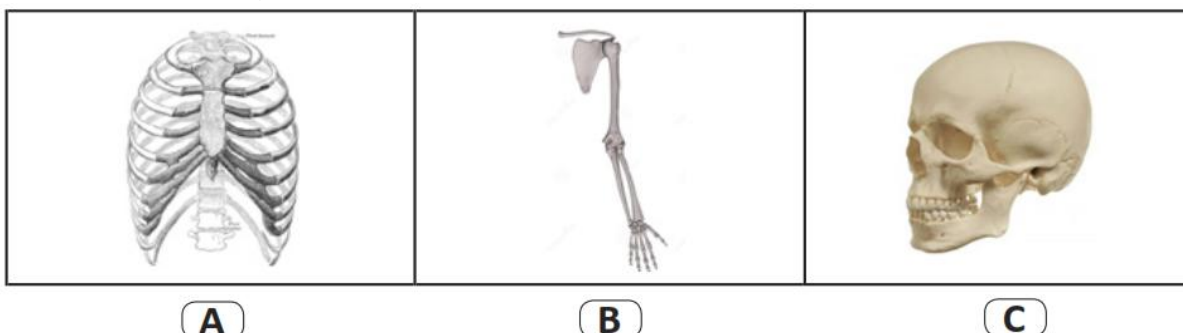
- A En A.
- B En B.
- C En C.



2.- ¿Cuál de los siguientes órganos forma parte del sistema digestivo?

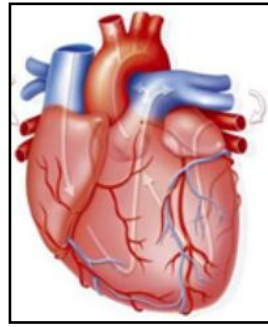


3.- ¿Cuál de las siguientes estructura da protección a nuestro cerebro?



4.- ¿Qué función cumple el órgano de la imagen?

- A Absorber nutrientes.
- B Absorber oxígeno.
- C Bombear sangre.



5.- ¿Qué recomendarías a las personas para cuidar y mantener el cuerpo sano y fuerte?

II. Ciclo de vida.

Queridos niños y niñas en esta guía comenzaremos con la unidad 2. Para comenzar estudiaremos los ciclos de vida de algunos animales y del ser humano.

¿Tú sabes que es el ciclo de vida? ¿Si, no? Escribe que sabes de él.

¿Recuerdas que es un hábitat? Escribe aquí lo que recuerdas.

Durante esta guía utilizaremos el texto del estudiante en las páginas de la 84 a la 93.

6.- Observa los ciclos de vida de la tortuga, mariposa, sapo y aves de las páginas ya nombradas. Identifica sus semejanzas y luego colorea los cuadros que corresponden a ellas.

Viven en el
agua

Nacen


Vuelan

Se
reproducen

Crecen

Mueren

7.- Observa las imágenes enumerando las etapas del ciclo de vida del ser humano. Considerando el nacimiento como punto de partida.

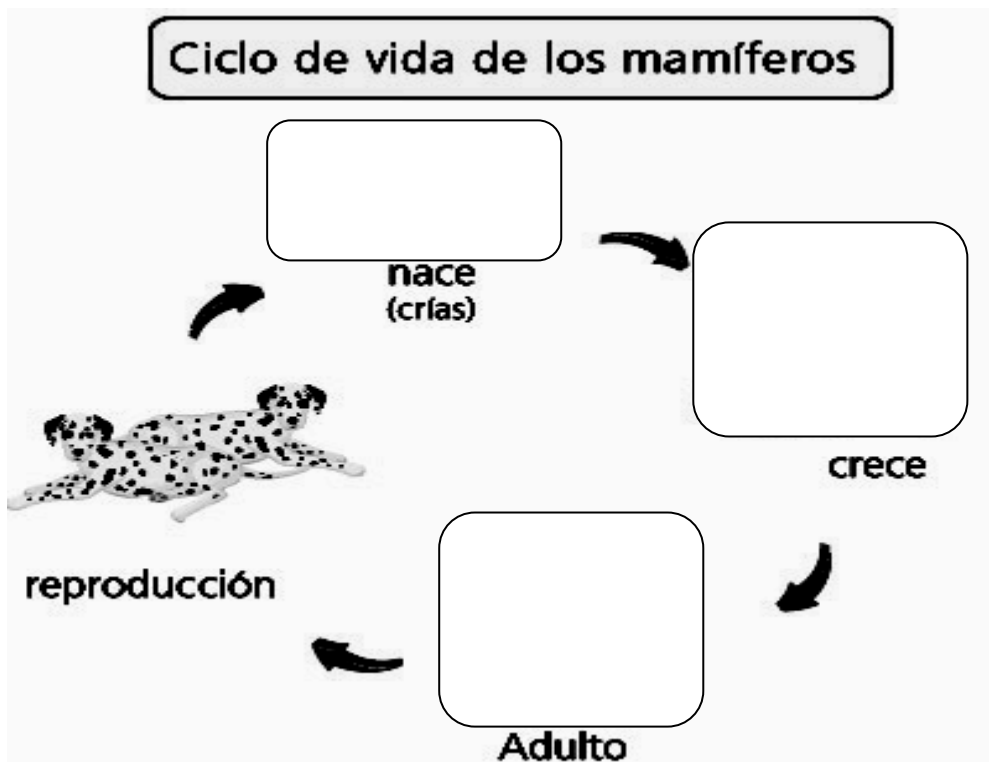


Observa las imágenes del texto en las páginas 84 y 85 y responde lo siguiente:

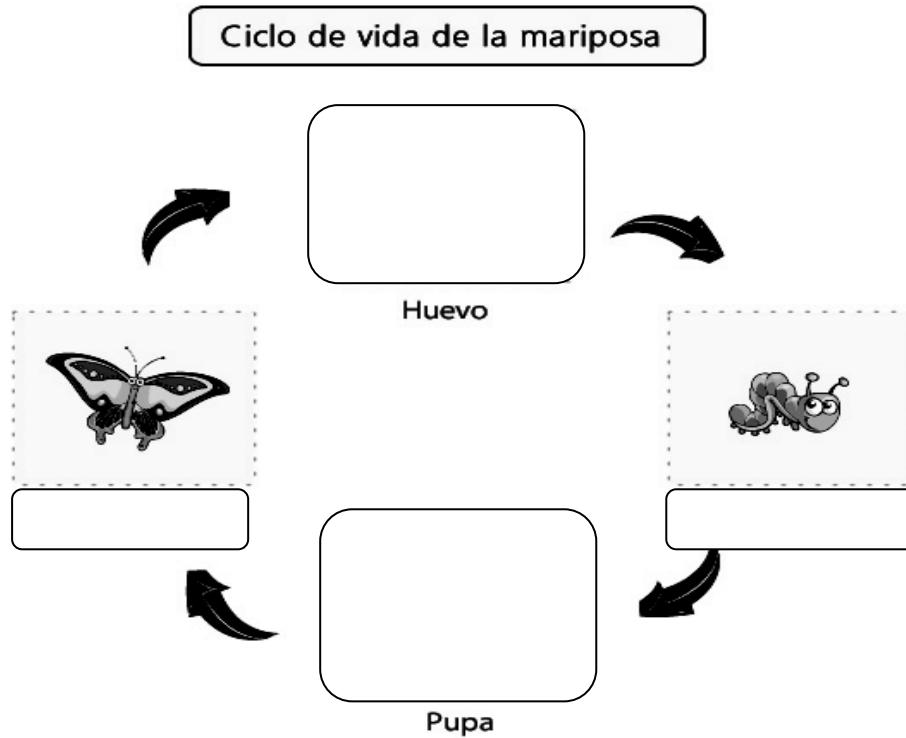
8.- ¿En qué etapa de vida te encuentras? Pinta el número que corresponde a la etapa que escogiste en el libro.



9.- Dibuja las etapas que faltan en el ciclo de vida de los mamíferos.



9.- Completa las etapas que faltan en el ciclo de vida de la mariposa. Observa las páginas 88 y 89 de tu libro como ayuda.



Observa las páginas 92 y 93 del texto escolar y compara el ciclo de vida de la gallina con el de la mariposa. Luego responde.

10.- ¿En qué se parecen? _____

11.- ¿En qué se diferencian? _____

12.- Observa el ciclo de vida del sapo y escribe el nombre de cada etapa.

