



COLEGIO DOMINGO EYZAGUIRRE
 SAN BERNARDO // EL BOSQUE
 ASIGNATURA: MÚSICA
 PROFESORA/PROFESOR: EDUARDO NIETO C.

PRUEBA FORMATIVA

Nombre:	Curso: 3º MEDIO
Fecha inicio: 16-JULIO	Fecha Término: 24-JULIO

Descripción Curricular de la Evaluación

Objetivos a evaluar	OA1, OA2
Habilidades a evaluar	Conocer, identificar, aplicar, describir.


INSTRUCCIONES:

Queridos alumnos la presente Prueba Formativa debes contestarla sin ayuda de tus apuntes, su objetivo es saber cuánto han aprendido hasta el momento y poder reforzar los aprendizajes que les han presentado dificultades.

Esta prueba la debes venir a dejar al colegio en lo posible antes del 24 de Julio si las condiciones sanitarias lo permiten o enviarla a mi correo:

e.nieto@colegiodomingoeyzaguirre.cl

I. Dibuje la llave de Sol y ubique las notas musicales escritas (12p.)



Sol Sib Re Fa# Si Do Lab Mi La Do# Mib Fa

II. Identifique las notas musicales escritas en la pauta (39 pts.)

Bella Ciao

Canción Tradicional Italiana

Allegretto



III. Escriba el nombre de la nota, en clave americana o con su nombre normal, según corresponda (10p.)

A: C: G: Si: Fa#: Eb: Re: D#: Ab: F:

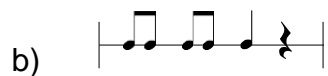
IV. Dibuje los símbolos “sostenido, bemol y becuadro” y explique su función (6p.)


V. Marca la respuesta correcta (24 pts.)

El punto que se coloca a la derecha de una figura rítmica o silencio aumenta su duración en:

- a) La mitad de su propio valor.
- b) El doble de su propio valor.
- c) Valor y medio del propio valor.
- d) Su valor.

Señala cuál de los siguientes compases representa un compás completo de 4/4



Este silencio () es equivalente a:

- a) Una negra.
- b) Una semicorchea.
- c) Una blanca.
- d) Una corchea.

¿Cómo se llama al signo que une a una nota con otra?

- a) **Signo de unión**
- b) **Barra de repetición**
- c) **Ligadura**
- d) **Da capo**

Señala cuál de los siguientes incisos tiene la duración correcta del siguiente ejemplo:



- a) **2 tiempos.**
- b) **3 $\frac{1}{2}$ tiempos.**
- c) **3 tiempos.**
- d) **2 $\frac{1}{2}$ tiempos.**

La menor distancia que existe entre una nota y otra se le dice:

- a) **Tono.**
- b) **Semitono.**
- c) **Intervalo.**
- d) **Sostenido.**

VI. Explica con tus palabras que es:(10 pts.)

a) Ritmo

b) Frase musical