

COLEGIO DOMINGO EYZAGUIRRE
-SAN BERNARDO // EL BOSQUE



ASIGNATURA: HISTORIA GEOGRAFÍA Y
CIENCIAS SOCIALES
PROFESOR (a): ANNIA DOMÍNGUEZ RAMÍREZ

Nancy Villaseca

ASISTENTE DE AULA: GABRIELA LEIVA DÍAZ

Byannis Méndez



Guía Pedagógica N°9

Nombre:	Curso: 1er Año
Fecha inicio:	Fecha Término

Descripción Curricular de la Evaluación



Nivel	N°1
Eje	Historia
Objetivos (sólo los números)	OA 2 OA 9
Habilidades a evaluar	<i>Localizar, secuenciar, formular opiniones, comunicar</i>

El tiempo pasa, todo cambia con el paso del tiempo

1.-Las estaciones del año

-Identifica las cuatro estaciones del año.

Observa las imágenes y describe de qué estación del año se trata. Coloca el nombre a cada una.



2.- Nombra la estación en la que hace más calor.


Comenta con tu mamá o un adulto las diferencias del tiempo en cada estación.

Escribe en tu cuaderno

Escribe cuando estas de cumpleaños.


3.-Completa dibujando en cada recuadro: sandias, hojas, flores, paraguas, según corresponda.

*En el verano como ricas




Jugosas.

*En el otoño se caen las




de los árboles

*En invierno llueve, usamos



y hace frío

*En primavera las



son fragantes y de colores

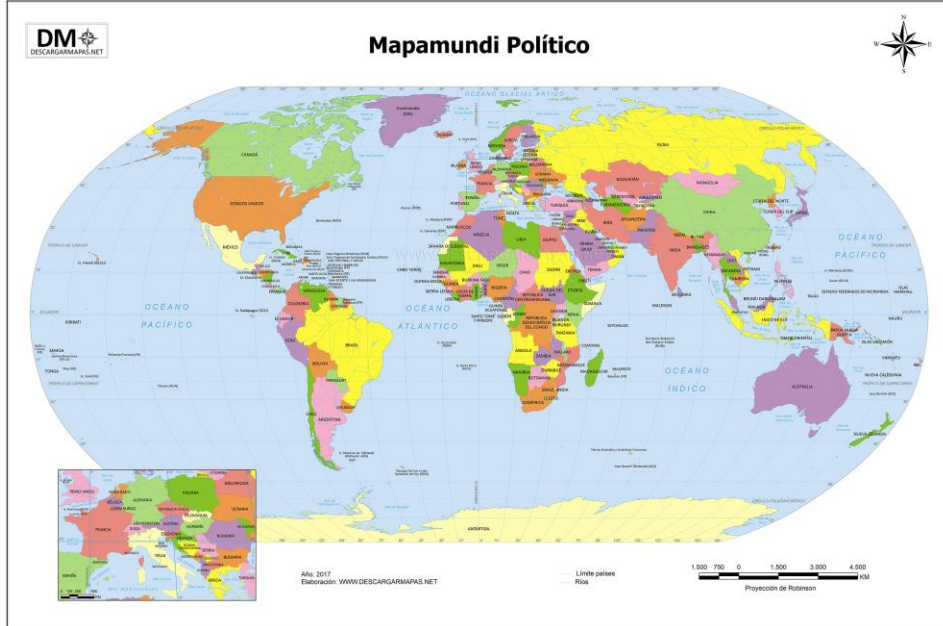
3.-Responde en tu cuaderno.

1. ¿Qué diferencias hay entre las distintas estaciones del año?
2. ¿Cuáles son los meses de otoño?
3. ¿Cuáles son los meses de invierno?
4. ¿Cuáles son los meses de primavera?
5. ¿Cuáles son los meses de verano?

-Vamos a ubicar a Chile en el mapa.

También aprenderemos para qué nos sirven los mapas.

Los mapas sirven para representar espacios grandes como una región, un país o todos los países como en el mapamundi (mapa de todo el mundo)



Observa el mapa de América del Sur:



Contesta:

-Marca con un círculo donde está Chile

-¿Qué forma tiene Chile?

2.- Haz la siguiente actividad utilizando el mapa con la ayuda de tu mamá o de un adulto.

Ubica a Chile en el mapa y píntalo de color rojo

