



COLEGIO DOMINGO EYZAGUIRRE
SAN BERNARDO / EL BOSQUE
ASIGNATURA: HISTORIA
PROFESOR (a): FRANCISCA TRONCOSO P

Guía Pedagógica N°8 **(Evaluación formativa)**

Nombre:	Curso: 1°C
Fecha inicio:	Fecha Presentación:

Descripción Curricular de la Evaluación

Unidad	2° unidad
Objetivo	Identificar a Chile en mapas, incluyendo la cordillera de los Andes, el océano Pacífico, la ciudad de Santiago, su región, su capital y su localidad (OA9)
Habilidades a evaluar	Identificar las regiones de Chile y reconocer a Santiago como la capital de nuestro país
Contenido	Ubicación espacial

Mamá y papá esta guía está pensada para ser trabajada en conjunto con su hijo o hija apoyando, guiando y supervisando la actividad

Primera parte: Reforzamiento guía anterior

Observa el mapa de América y pinta de color Verde **AMERICA DEL SUR** y de color rojo donde se encuentra nuestro país **CHILE**



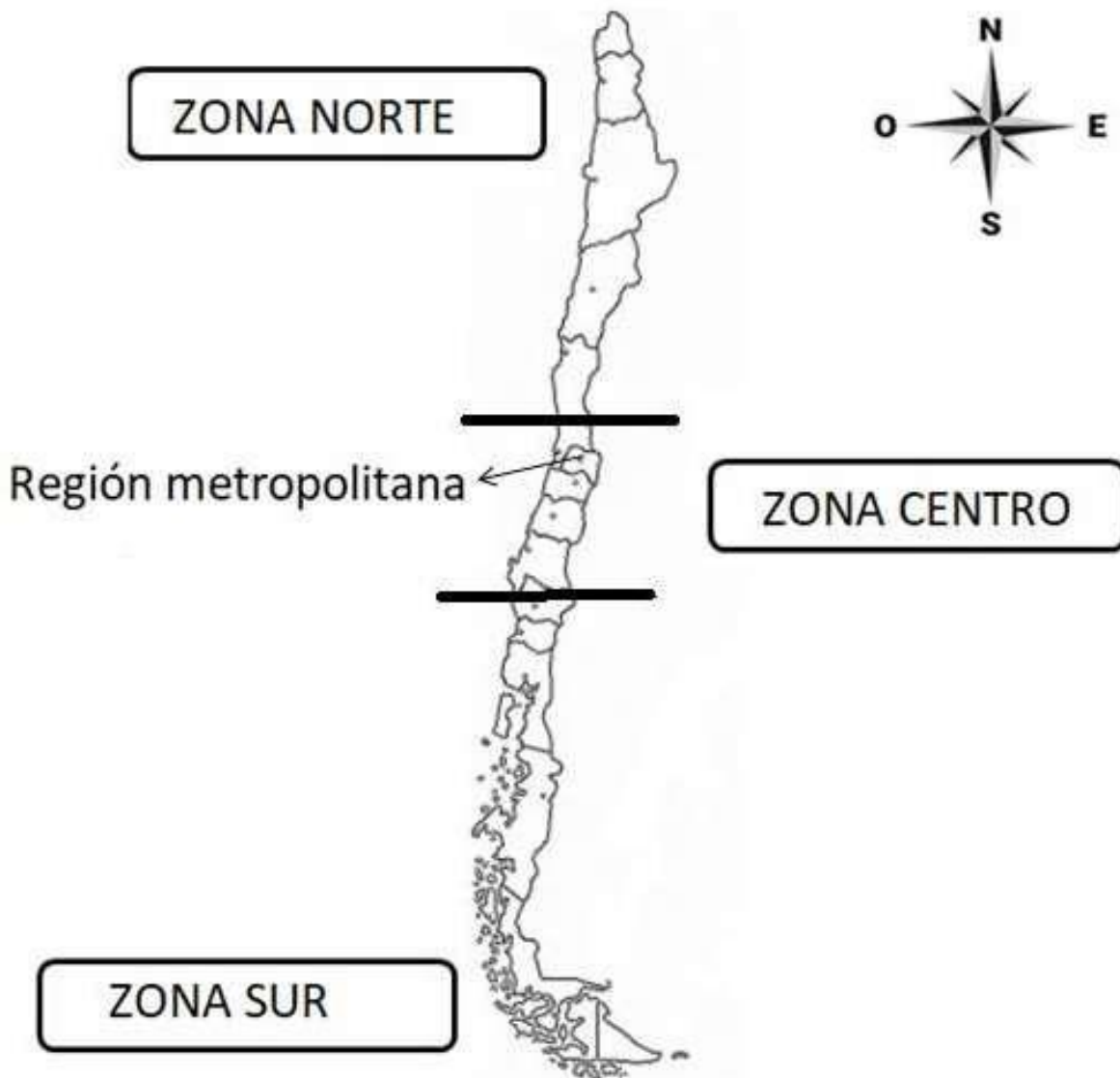
Segunda parte: Aprendamos un Nuevo contenido

1.- Chile esta dividido por zonas. Pinta de color **ROJO** la región Metropolitana.

Chile se divide en 3 zonas Naturales: Zona Norte – Zona Centro –Zona Sur

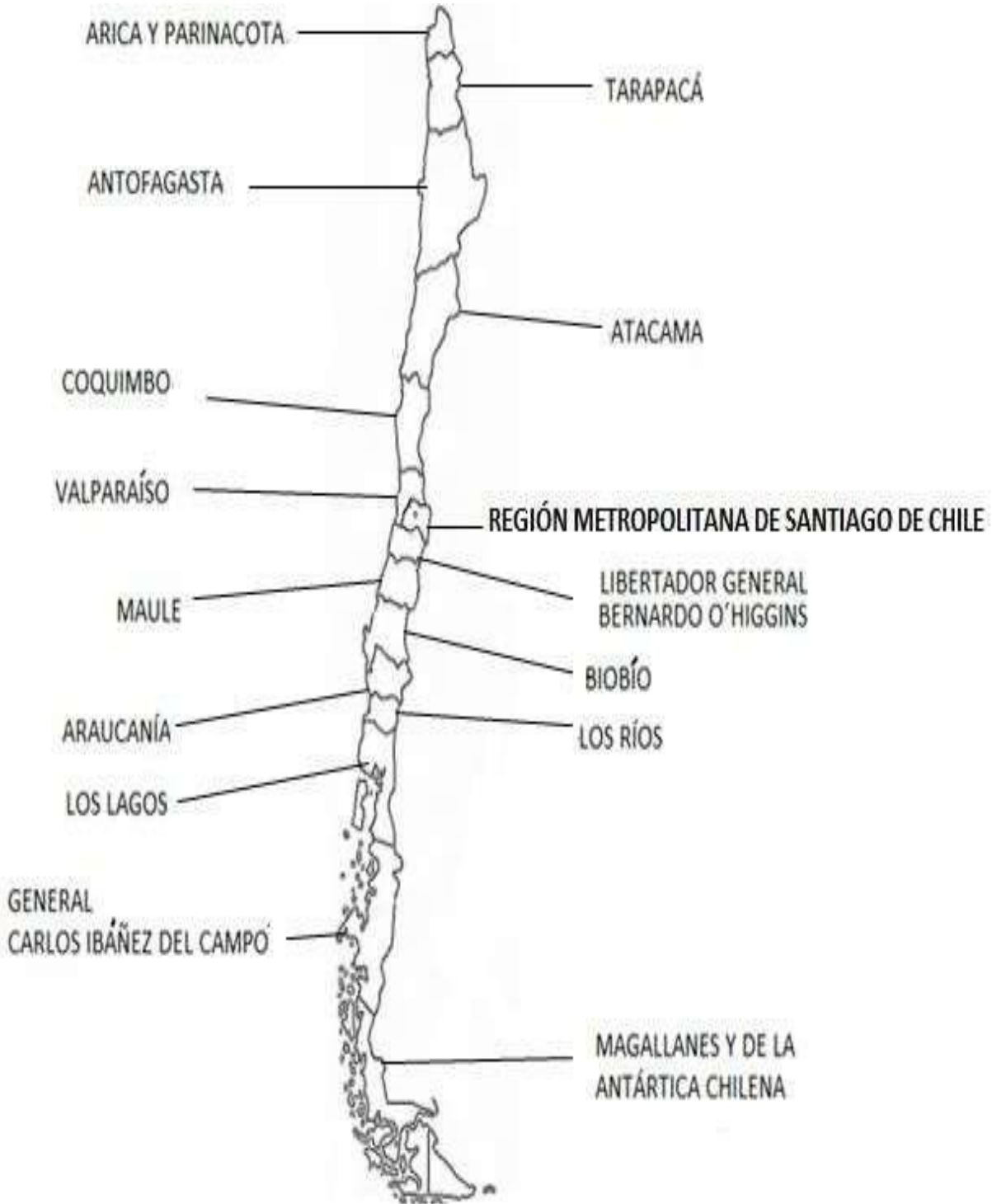
El clima de la **Zona Norte** es seco y desértico, mientras que en la **Zona Sur** es lluviosa y fría. Sin embargo, la **Zona Central** tiene de las otras dos zonas, seco en verano y lluvioso en invierno

CHILE Y SUS ZONAS NATURALES






2.- Con la ayuda de un adulto lee las regiones y ubica la **Región Metropolitana**.
Luego pinta de color **rojo la Capital de Chile** y las otras **regiones de color Verde**

Mapa Político



SABIAS QUÉ Santiago es la capital de Chile y que actualmente es el centro económico y administrativo del país y es donde más habitantes hay.

Maraca con una **X** la imagen que representa tu localidad



Pinta la carita que mejor refleje tu trabajo
Con la ayuda de un adulto responde el ¿Por qué?

¿Cómo te sentiste resolviendo esta guía?



¿Por qué?
