



COLEGIO DOMINGO EYZAGUIRRE
SEDE EL BOSQUE
ASIGNATURA: CIENCIAS NATURALES
PROFESOR (a): FRANCISCA TRONCOSO

Correo: f.troncoso@colegiodomingoeyzaguirre.cl
Teléfono: +56988988588

Prueba Formativa N°2

Nombre:	Curso: 1° C
Fecha inicio: 24 de Septiembre	Fecha Presentación: 09 de Octubre

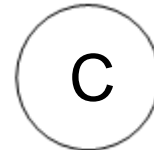


Descripción Priorización Curricular MINEDUC

Unidad	
Objetivo	(OA8) Explorar y describir diferentes tipos de materiales en diversos objetos, clasificándolos según sus propiedades (goma-flexible, plástico-impermeable) e identificando su uso en la vida cotidiana. (OA11) Describir y registrar el ciclo diario y las diferencias entre el día y la noche, a partir de la observación del sol, la luna, las estrellas y la luminosidad del cielo, entre otras, y sus efectos en los seres vivos y el ambiente.
Habilidades a evaluar	Identifican Cambios en los diferentes tipos de materiales: fuerza, agua, luz y calos Observar y registrar las diferencias durante el día y la noche. El sol ilumina la tierra (día y noche)
Contenido	Cambios en los materiales El día y la noche

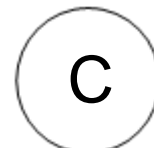
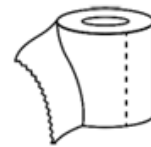
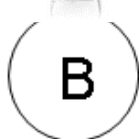

Su prueba consta de 10 preguntas de selección múltiple, solo una alternativa es la correcta

Marca con una X la respuesta correcta:

1 ¿Cuál de estos objetos se deforma si es presionado con tu mano?



2 ¿Qué objeto es rígido y transparente?



3 ¿Cuál de estos objetos se oxida con el agua?



A




B



C

4 ¿Qué se le aplicó al papel para producir este cambio?



Agua

A

Calor

B

Fuerza

C

5.- ¿Qué le ocurre al vidrio por causa de una fuerza?

Se quema

A


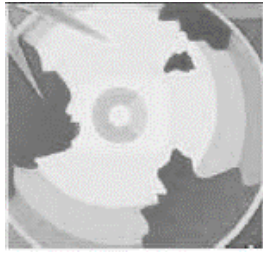

Se arruga

B

Se quiebra

C

6 ¿Qué imagen muestra el día?



A

B

C

7.- Observa la imagen y responde:



Cuándo está niña toma el desayuno antes de ir al colegio, ¿dónde se encuentra el Sol?

A

Sobre nosotros

B

Apareciendo

C

Escondido

8.- ¿Cuál de estas acciones debo hacer cuando el Sol se oculta?



A

B

C

9.- De acuerdo a la imagen, ¿cuál de las siguientes actividades debes realizar?



Tomar desayuno

Ir a dormir

Ir a la escuela

A

B

C

10.- ¿Cuándo el Sol se oculta completamente, en qué momento del día nos encontramos?

Mañana

Tarde

Noche

A

B

C