

COLEGIO DOMINGO EYZAGUIRRE  
-SAN BERNARDO / EL BOSQUE



ASIGNATURA: MATEMÁTICA  
PROFESOR (a): ANNIA DOMÍNGUEZ RAMÍREZ

Nancy Villaseca

ASISTENTE DE AULA: GABRIELA LEIVA DÍAZ

Byannis Méndez



### Guía Pedagógica N°10

<b>Nombre:</b>	<b>Curso: 1er Año</b>
<b>Fecha inicio:</b>	<b>Fecha Término</b>

#### Descripción Curricular de la Evaluación

<b>Nivel</b>	<b>N°1</b>
<b>Eje</b>	<b>Números y operaciones</b>
<b>Objetivos (sólo los números)</b>	<b>OA 9</b>
<b>Habilidades a evaluar</b>	<b>Resolver problemas, argumentar y comunicar, representar</b>

Ya sabes sumar y restar.

Te invito a resolver problemas

Problemas

Don Pedro recolectó 13 manzanas de su huerta, de las cuales 6 manzanas eran rojas y el resto verdes. ¿Cuántas manzanas verdes recolectó don Pedro?



Que debemos saber para poder resolver este problema

Paso n°1

\*Entender

¿Qué sabes del problema?

La cantidad de manzanas que recolecto y cuántas de ellas son rojas.

¿Qué debes averiguar?

La cantidad de manzanas verdes que recolectó

Paso n°2

\*Idear


¿Cómo resolver el problema?


Dibujó la cantidad de manzanas y las pintó

Cuento las manzanas verdes y respondo la pregunta

Paso n°3

\*Resolver



Don Pedro recolectó 

Paso n°4

Revisar

Dibujó 13 /, encierro 6 y cuento las que quedan sin encerrar (7)



Mi respuesta es correcta.

Ahora ¡Manos a la obraaaaaa!

Problemas


1.- Gabriela tenía 25 chocolates.

Se comió 12.

¿Cuántos chocolates le quedan?

¿Cómo lo hago para saber?

¿SUMO O RESTO?

25  12 = .....

Respuesta: .....




2.- Mauricio compró 16 lápices.

Le regalaron 7 más.

¿Cuántos lápices tiene??

¿SUMO O RESTO?

16  7 = .....


Respuesta:- .....



3.- Si tu papá te da \$15 y tu mamá \$20

¿Cuánto dinero reúnes?

¿SUMO O RESTO?

15  20 = .....

Respuesta: .....



**Resuelve los problemas, Tú puedes hacerlo**

4.- En un bus viajan 32 personas.

En un paradero se bajan 12.

¿Cuántos siguen en el bus?

¿SUMO O RESTO?

32      12= .....

Respuesta.....



5.-Jessica tiene \$10

Quiere comprar un chocolate de \$20.

¿Cuánto dinero le falta?

¿SUMO O RESTO?

$$\text{-----} \bigcirc 20 = \text{-----}$$



6.- Ahora resuelve los ejercicios de adición (sumas), y completa los cuadrados.

Tú puedes!

	1	6
+		3

	1	2
+		4

	2	7
-		4

	2	2
+		7

Ahora resuelve los ejercicios de sustracción (resta), y completa los cuadrados.

Tú puedes!

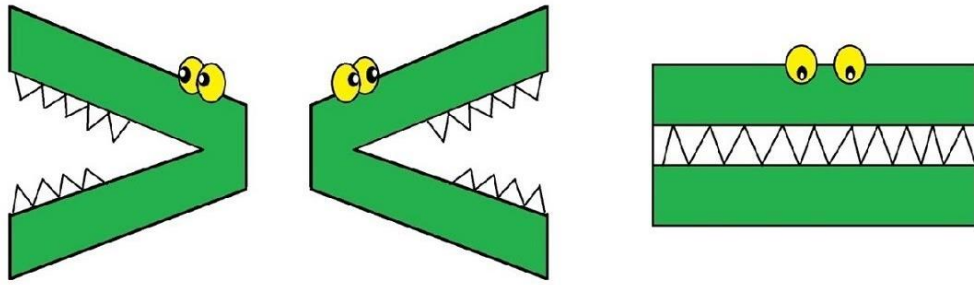
	2	7
-		4

	1	9
-		3

	2	7
-		4

	1	8
-		3

7.-Escribe el signo  $>$   $<$  o  $=$  según corresponda:



22		10
17		20
6		2
15		20
19		19
11		11

Comenta con tu mamá o un adulto

¿Qué aprendiste hoy?

¿Fue fácil?

¿Fue difícil? ¿Por qué?

