



Prueba Formativa N°2

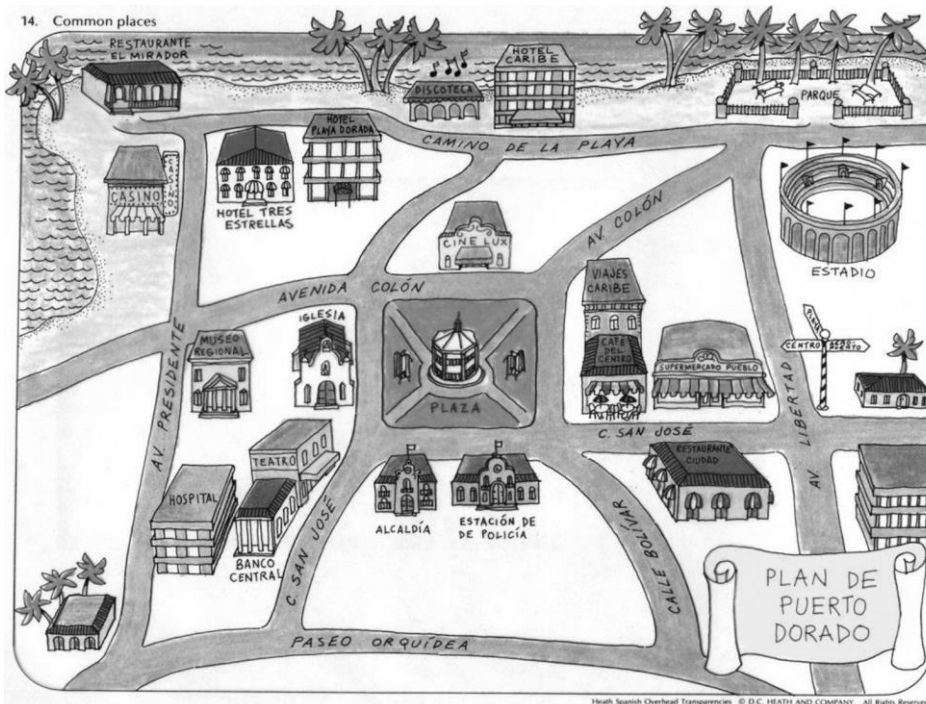
Nombre:	Curso: 1° C
Fecha inicio: 24 de septiembre	Fecha Presentación: 09 de octubre

Descripción Priorización Curricular MINEDUC

Unidad	
Objetivo	<p>(OA9) Identificar a Chile en mapas, incluyendo la cordillera de los Andes, el océano Pacífico, la ciudad de Santiago, su región, su capital y su localidad.</p> <p>(OA10) Observar y describir paisajes de su entorno local, utilizando vocabulario geográfico adecuado (país, ciudad, camino, pueblo, construcciones cordillera, mar, vegetación, y desierto) y categorías de ubicación relativa (derecha, izquierda, delante, detrás, entre otros).</p>
Habilidades a evaluar	Reconocer e localizar océanos, cordillera y continente. Identificar algunas características naturales del paisaje en imágenes
Contenido	Ubicación espacial

Su prueba consta de 10 preguntas de selección múltiple, solo una alternativa es la correcta.

Observa el mapa y responde:



Marca con una X la respuesta correcta

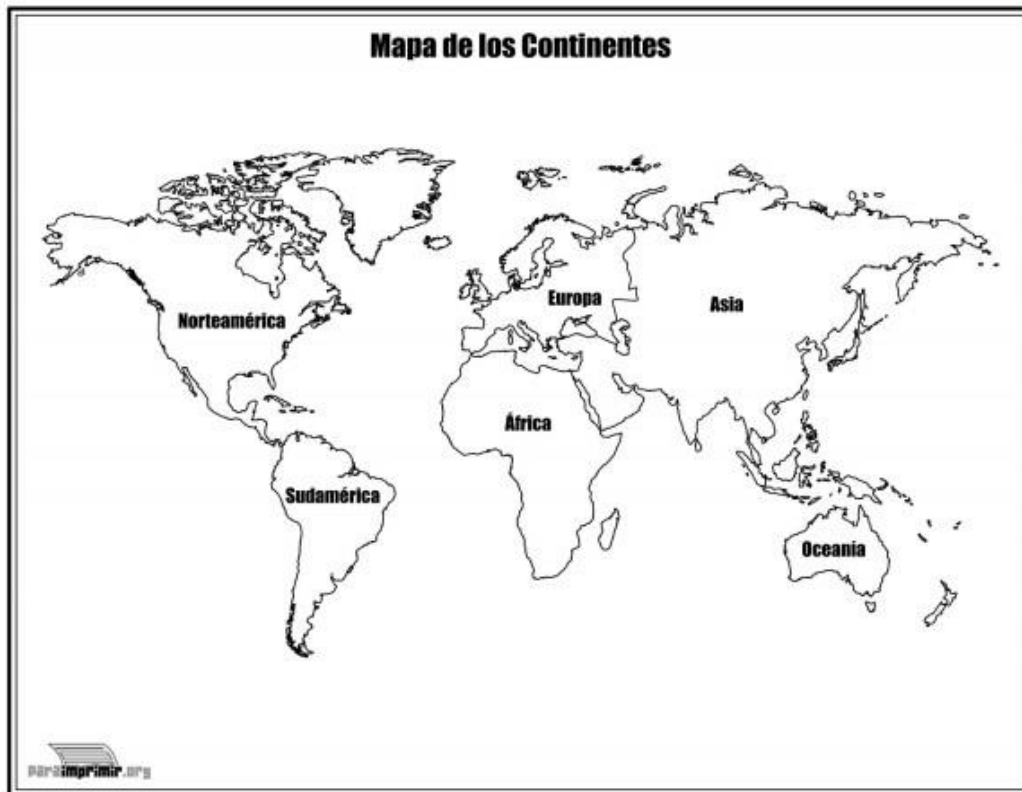
1.- ¿Cuál de estas afirmaciones es **VERDADERA**?

En este lugar hay un bosque

En este lugar no hay edificios

En este lugar hay mar y playa

Observa el mapa y responde:



2.- ¿En qué continente está Chile? Responde con una X

- A** Asia **B** América **C** Europa

3.- ¿Qué océano rodea las costas de Chile? Responde con una X la respuesta correcta



- A** Océano Pacífico
- B** Océano Índico
- C** Océano Atlántico

4.- ¿Cómo se llama la capital de Chile?

- A** Concepción **B** Chillan **C** Santiago

5.- ¿Qué nos separa de Argentina?

- A** Antártica **B** Cordillera de los Andes **C** Océano Pacífico

Observa este paisaje y responde la pregunta.



6.- ¿Cómo es este paisaje?

- A** Es plano **B** Es muy seco **C** Es muy lluvioso

7.- ¿Qué elemento natural muestra este paisaje?




- A** El mar
- B** Cordillera de los Andes
- C** Desierto de Atacama

8.- ¿Qué elemento de este paisaje fue creado por el ser humano?





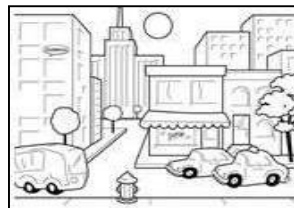
- A** La playa
- B** El mar
- C** Los edificios

9.- ¿Qué elemento del paisaje está marcado con una 



- A** Las rocas
- B** El río
- C** Las montañas

10.- Observa las imágenes. Une con una línea el nombre con el paisaje



Cordillera

Playa

Desierto

Ciudad