



## Guía Pedagógica N°11

Nombre:	Curso: 1°C
Fecha inicio:	Fecha Presentación:

### Descripción Curricular de la Evaluación

Unidad	<b>NIVEL 1</b>
Objetivo	<b>Observar y describir paisajes de su entorno local, utilizando vocabulario geográfico adecuado (país, ciudad, camino, pueblo, construcciones cordillera, mar, vegetación, y desierto) y categorías de ubicación relativa (derecha, izquierda, delante, detrás, entre otros) OA10</b>
Habilidades a evaluar	<b>Describen con sus propias palabras el entorno local, utilizando categorías de ubicación relativa (derecha, izquierda, delante, detrás, entre otros).</b>
Contenido	<b>Ubicación espacial</b>

**Mamá y papá esta guía está pensada para ser trabajada en conjunto con su hijo o hija apoyando, guiando y supervisando la actividad**

### Indicaciones generales:



-Con la ayuda de un adulto lee las instrucciones para realizar la guía de trabajo.

Para iniciar esta guía, haremos algunas preguntas que nos permitan recordar lo que ya hemos aprendido acerca de nuestro país. Comenta junto a un adulto tus respuestas.

1.- Marca con una X el paisaje que se asemeja mas a la capital de chile, Santiago



2.- Marca con una X el paisaje natural



**Si ya recordaste podemos seguir avanzando...**

**LEE EN COMPAÑÍA DE UN ADULTO:**

**Para comenzar debemos conocer algunos conceptos de ubicación que son:**



Esto nos permite ubicarnos en nuestra casa en el dormitorio, en el baño, en la cocina o también en nuestra comunidad

### Actividad

3.- Observa el paisaje y pinta de color **ROJO** la respuesta correcta utilizando los conceptos de **IZQUIERDA, DERECHA, ARRIBA, ABAJO, ADELANTE Y DETRÁS** entre otros.



1.- El hombre está a la   de la casa.

2.- El perro está a la   de la casa.

3.- El ganso está   de la chimenea.

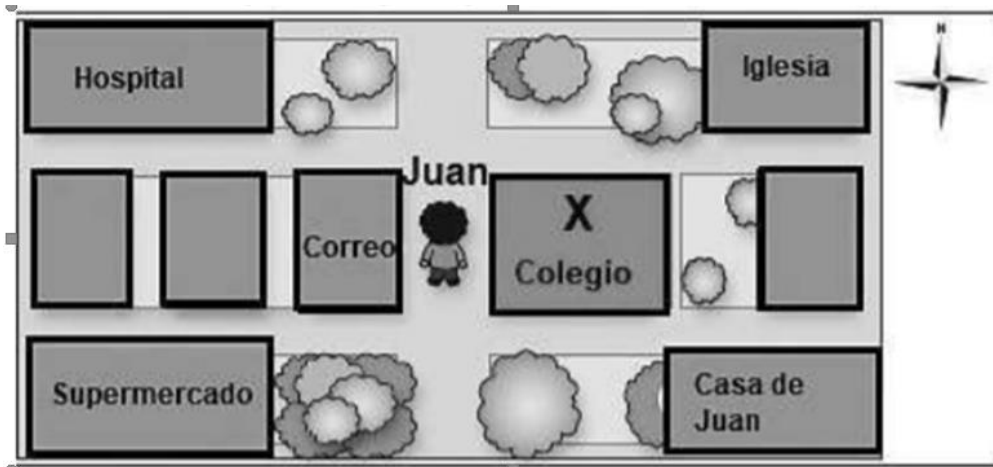
4.-El gato está   del hombre.

5.-La leña está   del hombre.

6.- El pájaro está   de la casa del perro.

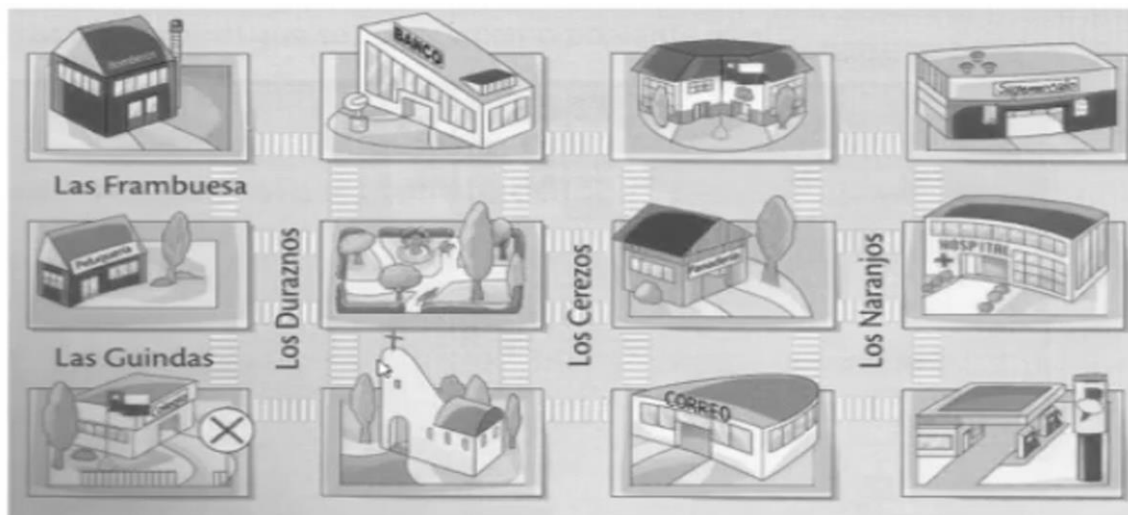
7.-El perro está   de la casa.

8.- Observa el plano y responde con una X la respuesta correcta



¿A qué dirección de Juan se encuentra el Colegio?

9.- Observa y responde una X



¿Si estas en el colegio que se encuentra A la Izquierda?

El banco

La iglesia

La plaza

**Pinta la carita que mejor refleje tu trabajo**  
Con la ayuda de un adulto responde el ¿Por qué?

¿Cómo te sentiste resolviendo esta guía?



¿Por qué?

---

---

