



COLEGIO DOMINGO EYZAGUIRRE  
SEDE EL BOSQUE  
ASIGNATURA: Matemática  
PROFESOR: Julio Aravena/ Julia Arriagada  
ADAPTACIÓN PIE: Julia Arriagada Inostroza

Correo: julio.aravena3@gmail.com  
Teléfono: +569 63200811 (Número nuevo)

### **Guía Pedagógica N°11 (Evaluación formativa)**

Nombre:	Curso: Primer año C
Fecha inicio: Es la fecha de retiro de la guía desde el colegio	Fecha Presentación: Fecha de entrega al colegio

#### Descripción Priorización Curricular MINEDUC

Unidad	Trabajamos con números
Objetivo Aprendizaje	Reconocer, describir, crear y continuar patrones repetitivos (sonidos, figuras, ritmos...) y patrones numéricos hasta el 75, crecientes y decrecientes, usando material concreto, pictórico y simbólico, de manera manual y/o por medio de software educativo.
Habilidades a evaluar	Argumentar y comunicar: Comunicar el resultado de descubrimientos de relaciones, patrones y reglas, entre otros, empleando expresiones matemáticas.
Contenido	Números Naturales Resolución de problemas

¡Hola! ¿Cómo están? Que alegría verlos los días lunes en nuestras sesiones de matemática, en esta guía trabajaremos lo que hemos estado trabajando con la profesora Julia los días lunes.


#### 1. **Escribe y lee el nombre de los números según corresponda.**

**Sigue el ejemplo. (Recuerda ayudarte con el abecedario)**

1	uno	Quince	15
10	DIEZ	Veintisiete	27
15	QUINCE	Treinta y cinco	35
20	VEINTE	Cuarenta y dos	42

2. Recorta y pega los números que faltan en la tabla según corresponda.

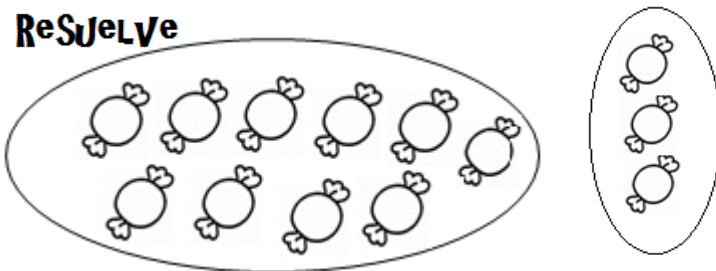
(Los números los encuentras al final de esta guía)

<b>10</b>	
<b>15</b>	
<b>20</b>	
<b>25</b>	
<b>30</b>	
<b>35</b>	
<b>40</b>	

### 3. Resuelve los siguientes problemas.

a) Un niño lleva a la escuela 10 dulces. La profesora le regala 3 dulces más  
¿Cuántos dulces tiene en total el niño?

**ReSueLve**




$10 + 3 = \square$

**ReSpueSta**

b) Si una mano tiene 5 dedos. ¿Cuántos dedos tenemos en 4 manos?

**ReSueLve**




$5 + 5 + 5 + 5 = \square$

**ReSpueSta**

c) Mi padre ha comprado una caja de 20 botellas de bebidas. En la fiesta de cumpleaños hemos gastado 12. ¿Cuántas botellas nos quedan?

**ReSueLve**



$20 - 12 = \square$

**ReSpueSta**

MATERIAL PARA RECORTAR

