




## PRUEBA DE MATEMÁTICAS

<b>NOMBRE :</b>		<b>CURSO: 2° c</b>
<b>FECHA: 03/ 04/2021</b>		<b>Tiempo Pedagógico:</b>
<b>CONTENIDOS A EVALUAR</b>	Sumas y restas hasta el 100	
<b>HABILIDADES A EVALUAR</b>	Resolver	


Selecciona la alternativa correcta marcándola con una X.

1. ¿Cuál es el resultado de la suma  $41 + 22$ ? \*

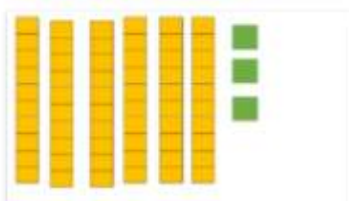
65



64




63




2. ¿Cuál es el resultado de la suma  $32 + 22$ ? \*


52



53

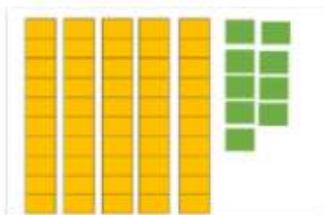


54

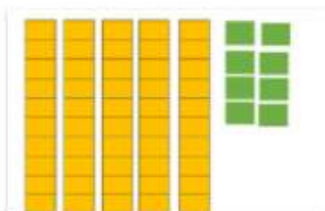


3. ¿Cuál es el resultado de la suma  $45 + 14$ ? \*

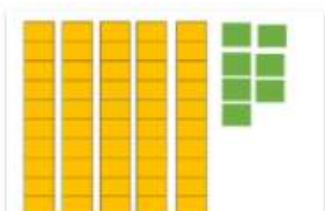
59



58



57



4. ¿Cuál es el resultado de la suma  $33 + 33$ ? \*

65



66



67

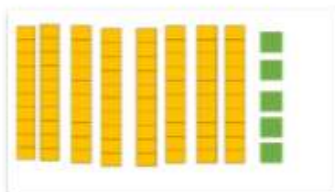


5. ¿Cuál es el resultado de la suma  $55 + 30$ ? \*

82



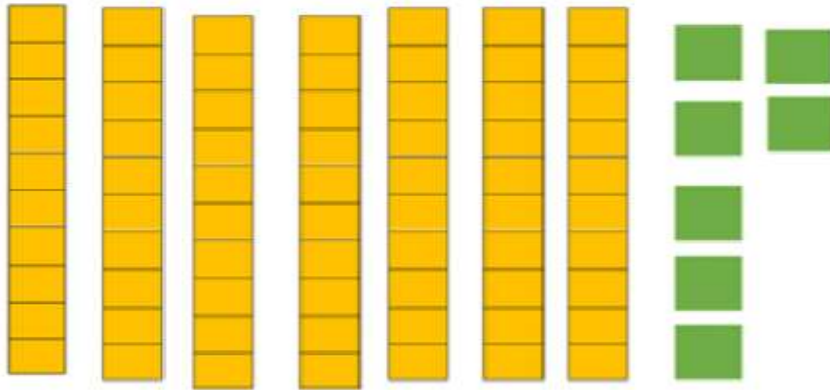
85



86



7. ¿Cuál de las siguientes sumas da de resultado 77? \*



35 + 35

45 + 32

69 + 7