



COLEGIO DOMINGO EYZAGUIRRE
SAN BERNARDO
ASIGNATURA: MÚSICA
PROFESOR: EDUARDO NIETO C.

Guía Pedagógica N°2

Nombre:	Curso: 7º Básico
Fecha inicio: Mayo	Fecha: Mayo 2021

Descripción Curricular de la Evaluación

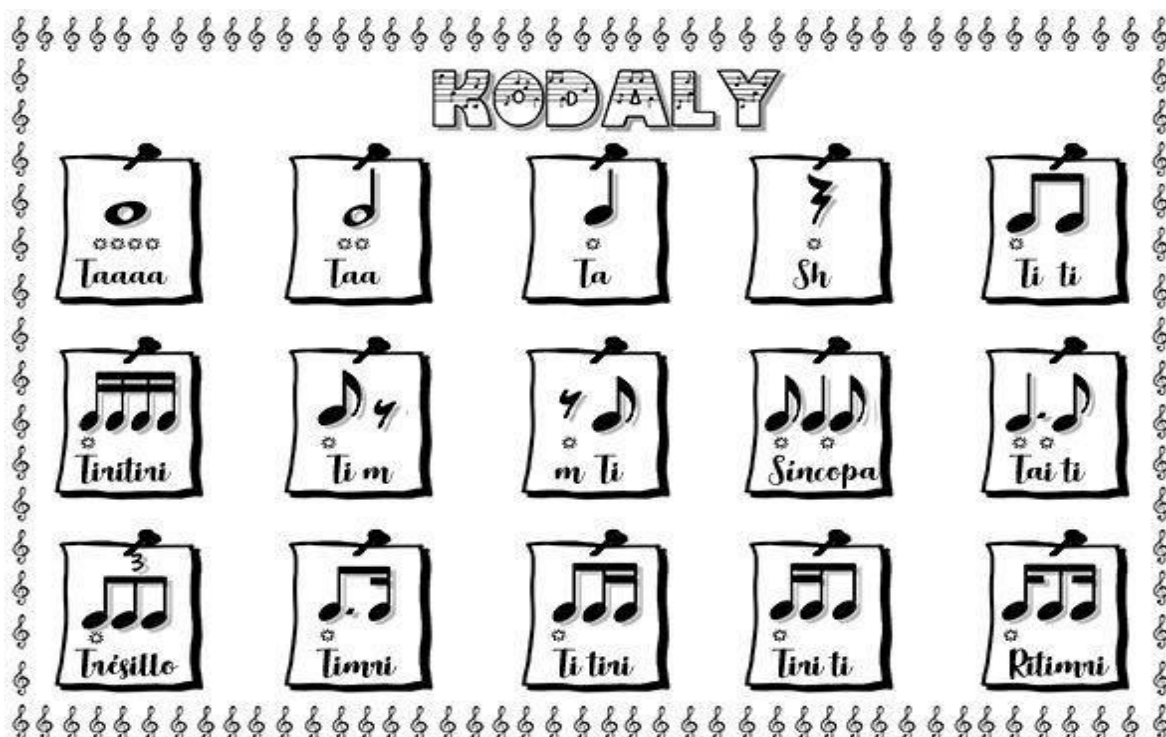
Nivel	N° 1 (2020)
EJE	Interpretar y crear
Objetivos (sólo los números)	OA5
Habilidades a evaluar	Desarrollo de la lectura musical

Instrucciones:















Lee, desarrolla y/o responde la siguiente guía de trabajo. Debes entregar esta guía en el colegio a más tardar el 31 de Mayo.

Cualquier consulta debes realizarla al correo: eduardonietoc@gmail.com, o al teléfono WhatsApp: +569 6320 0437 en horario de 08:00 hasta las 18:00 hrs.

1. Observa la siguiente lámina, en ella se encuentran figuras musicales asociadas a palabras que al pronunciarlas nos enseñan la duración de estas figuras.






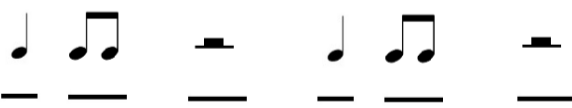




2. En esta lamina se observan loas valores de las figuras



NOMBRE	FIGURA	SILENCIO	VALOR/PULSOS
Redonda			4 Tiempos
Blanca			2 Tiempos
Negra			1 Tiempo
Corchea			1 / 2 Tiempo
Semicorchea			1 / 4 Tiempo
Fusa			1/8 Tiempo
Semifusa			1/16 Tiempo

3. Escribe con la letra más clara que puedas, la palabra que corresponde a cada figura musical (lámina 1). Luego de resolver los ejercicios, léelos en voz alta y clara. (51 pts.)

Ejemplo:  TA  TA  TAA

4. ¡En esta actividad tendrás que sumar y restar! Las figuras musicales que hemos visto hasta ahora (24 pts.)

 +  = 2

