



COLEGIO DOMINGO EYZAGUIRRE  
 SAN BERNARDO  
 ASIGNATURA: Historia, Cs Soc. y Geo.  
 PROFESOR (as): Patricia Saavedra Ortega –  
 Lilian López Vidal

**PRUEBA HISTORIA, CS SOC. GEO.**

|  |                         |
|--|-------------------------|
| <b>Nombre:</b>                               | <b>Curso: 4° Básico</b> |
| <b>Fecha inicio:</b>                         | <b>Fecha término</b>    |
| <b>Puntaje: ideal 42 puntos/ Real: .....</b> | <b>Nota:</b>            |

**Descripción Curricular de la Evaluación**

|                            |                             |
|----------------------------|-----------------------------|
| <b>Nivel</b>               | <b>1</b>                    |
| <b>EJE</b>                 | <b>Historia – Geografía</b> |
| <b>Objetivos (sólo nº)</b> | <b>3 – 7 – 8</b>            |

Cualquier consulta debes realizarla al correo:

[p.saavedra@colegiodomingoeyzaguirre.cl](mailto:p.saavedra@colegiodomingoeyzaguirre.cl)

[l.lopez@colegiodomingoeyzaguirre.cl](mailto:l.lopez@colegiodomingoeyzaguirre.cl)

**INSTRUCCIONES: Lee atentamente cada pregunta y luego marca la alternativa correcta.**

**1. De acuerdo al mapa, ¿con cuál país limita Chile al Este?**

- A Argentina.
- B Colombia.
- C Uruguay.
- D Perú



**2. Mira la cuadrícula y responde la pregunta.**

|   |   |   |   |   |   |
|---|---|---|---|---|---|
|   | 1 | 2 | 3 | 4 | 5 |
| A | 😊 |   |   |   |   |
| B |   |   |   | ★ |   |
| C |   | 📦 |   |   |   |
| D |   |   |   |   |   |
| E |   |   |   |   | ♡ |

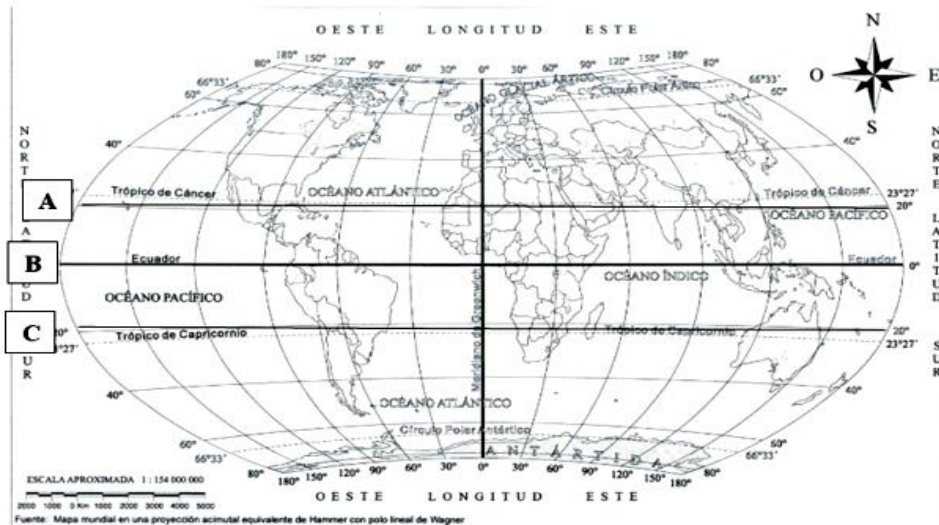
¿En cuál coordenada se ubica la siguiente figura 📦 ?

- A A1.
- B C2.
- C B4.
- D E5.



COLEGIO DOMINGO EYZAGUIRRE  
SAN BERNARDO  
ASIGNATURA: Historia, Cs Soc. y Geo.  
PROFESOR (as): Patricia Saavedra Ortega –  
Lilian López Vidal

### Observa este planisferio y responde las preguntas 3 y 4



<https://bit.ly/2sVMOS6>

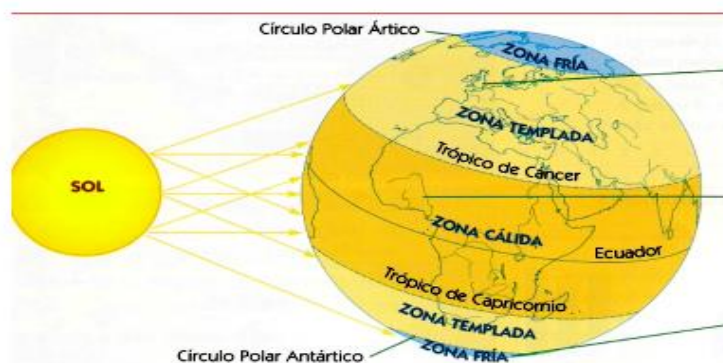
#### 3. ¿Qué representa la línea que está indicada en la A ?

- A El eje polar.
- B La Línea del Ecuador.
- C El Trópico de Cáncer.
- D El Trópico de Capricornio.

#### 4. ¿En cuál hemisferio del planisferio se encuentra Chile?

- A En el hemisferio Sur.
- B En el hemisferio Norte.
- C En el hemisferio Este.
- D En los hemisferios Noroeste.

#### 5. Observa este globo terráqueo y responde la pregunta.



<https://hacemuchosiglos.files.wordpress.com/2015/03/zonas-climc3a1ticas.jpg>

#### ¿Dónde se encuentra la Zona Cálida?

- A Entre los Trópicos de Cáncer y Capricornio.
- B Entre el Trópico de Cáncer y Círculo Polar Ártico.
- C Entre la línea del Ecuador y el Círculo Polar Antártico.
- D Entre el Trópico de Capricornio y el Círculo Polar Antártico.



COLEGIO DOMINGO EYZAGUIRRE  
SAN BERNARDO  
ASIGNATURA: Historia, Cs Soc. y Geo.  
PROFESOR (as): Patricia Saavedra Ortega –  
Lilian López Vidal

**6. ¿Cuál es la zona climática donde está este paisaje?**



[https://www.ecured.cu/zona\\_polar](https://www.ecured.cu/zona_polar)

- A Templada.
- B Cálida.
- C Fría.
- D Cálida - templada.

**7. ¿Cómo se llama la línea marcada en el globo terráqueo?**



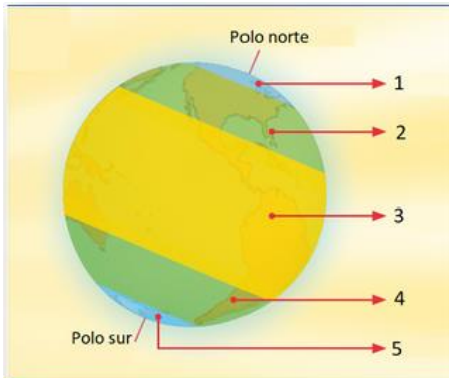
- A Línea del ecuador.
- B Polo norte.
- C Trópico de cáncer.
- D Círculo polar antártico.

**8. ¿Cuál es el nombre de este continente?**



- A América.
- B Asia.
- C África.
- D Oceanía.

**9. ¿Cuál es la zona más cálida de nuestro planeta?**



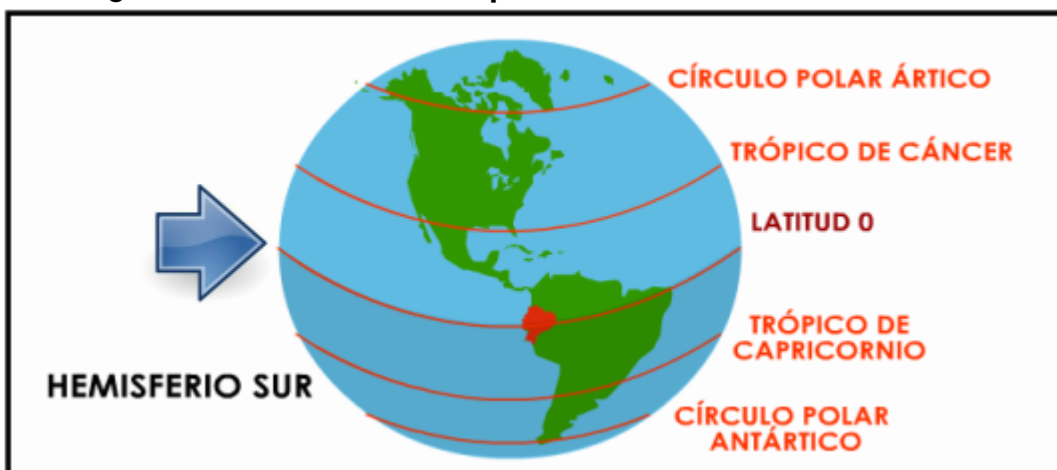
- A Zona 3.
- B Zonas 2 y 4.
- C Zona 1.
- D Zonas 1 y 5.

**10. Los inuits se han adaptado para habitar en climas:**



- A Cálidos.
- B Fríos.
- C Templados.
- D En cualquier tipo de clima.

**11. ¿Cómo se llama la línea que indica la flecha?**

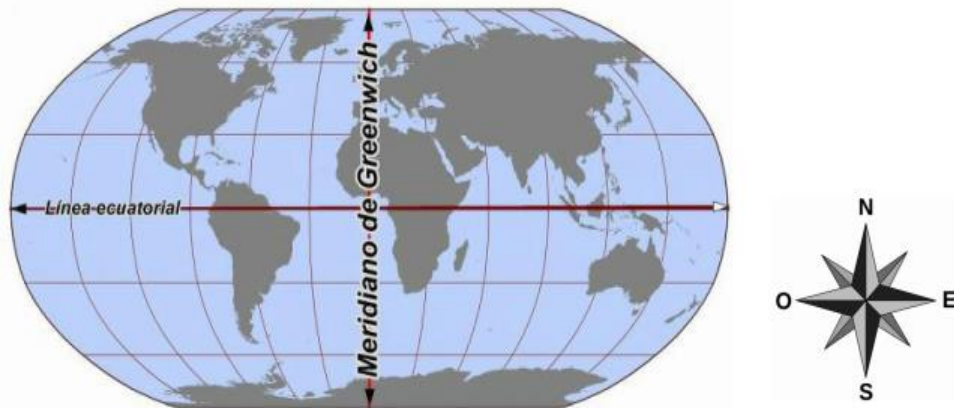


- A Meridiano de Grenwich.
- B Línea del Ecuador.
- C Meridiano 0.
- D Polo Sur.



COLEGIO DOMINGO EYZAGUIRRE  
SAN BERNARDO  
ASIGNATURA: Historia, Cs Soc. y Geo.  
PROFESOR (as): Patricia Saavedra Ortega –  
Lilian López Vidal

**Observa el siguiente planisferio y responde las preguntas de la 14 a la 17**



**12. ¿Cuál de estos continentes se localiza en su totalidad en el hemisferio Sur?**

- A Asia.
- B África.
- C Europa.
- D Oceanía.

**13. ¿Qué océano separa América de Europa y África?**

- A Índico.
- B Pacífico.
- C Atlántico.
- D Glacial Ártico.

**14. ¿Cuál de estas afirmaciones es VERDADERA?**

- A América está al Este de Europa.
- B Europa se localiza al Sur de África.
- C Australia se ubica en el continente africano.
- D Oceanía se encuentra en los hemisferios Sur y Este.

**15. ¿Cuál es el océano más grande?**

- A Índico.
- B Pacífico.
- C Atlántico.
- D Glacial Antártico.





COLEGIO DOMINGO EYZAGUIRRE  
SAN BERNARDO  
ASIGNATURA: Historia, Cs Soc. y Geo.  
PROFESOR (as): Patricia Saavedra Ortega –  
Lilian López Vidal

**16. Observa la imagen y responde la pregunta.**



Fuente: <https://www.definicionabc.com/wp-content/uploads/zona-clim%C3%A1tica.jpg>

**¿Qué zona climática se localiza entre el Trópico de Cáncer y el Trópico de Capricornio?**

- A Cálida.
- B Fría del Sur.
- C Templada del Sur.
- D Templada del Norte.

**17. ¿Qué características tiene la zona climática donde se ubica este paisaje?**



- A Su vegetación es exuberante.
- B Sus temperaturas son muy bajas.
- C Es seca y su vegetación es escasa.
- D Es húmeda y las lluvias son abundantes.

**18. ¿En qué zona climática se localiza este paisaje?**



- A Fría.
- B Cálida.
- C Tropical.
- D Templada.



COLEGIO DOMINGO EYZAGUIRRE  
SAN BERNARDO  
ASIGNATURA: Historia, Cs Soc. y Geo.  
PROFESOR (as): Patricia Saavedra Ortega –  
Lilian López Vidal

**Observa la siguiente fotografía y responde las preguntas 21 y 22.**



**19. ¿Cuál es el medio de transporte más adecuado para desplazarse en este lugar?**

- A Bus.
- B Tren.
- C Automóvil.
- D Bote o barco.

**20. ¿Qué vestuario es el más adecuado para esta zona?**

- A Abrigo y botas.
- B Parka y bufanda.
- C Short, polera y sandalias.
- D chaleco grueso y guantes.

**21. ¿Qué características tienen las viviendas de las zonas frías?**

- A Tienen muchas ventanas.
- B Están hechas de materiales ligeros.
- C Sus techos son de paja para protegerse de las lluvias.
- D Tienen paredes gruesas para aislarse de las bajas temperaturas.