

Prueba N°1 de Matemática

Segundo año básico

Nivel 1 OA priorizados 9-11-13 Habilidades a evaluar: Emplear diversas estrategias para resolver problemas.

***Obligatorio**

1. Nombre: *

2. correo electrónico (opcional)

Lee atentamente antes de responder.

3. 1. Observa la secuencia ¿Qué número falta? *

2 puntos




Marca solo un óvalo.

- a) 6
- b) 8
- c) 10

4. 2. Observa ¿Qué número falta en esta secuencia? *

2 puntos




Marca solo un óvalo.

- a) 10
- b) 25
- c) 35

5. 3. Lee atentamente *

2 puntos

Si cuentas hacia adelante de **3 en 3**
¿Qué número sigue luego de **12**?




Marca solo un óvalo.

- a) 15
- b) 18
- c) 20

6. 4. Lee, piensa y luego responde *

2 puntos

Si cuentas hacia adelante de **2 en 2**
¿Qué número sigue luego de **8**?

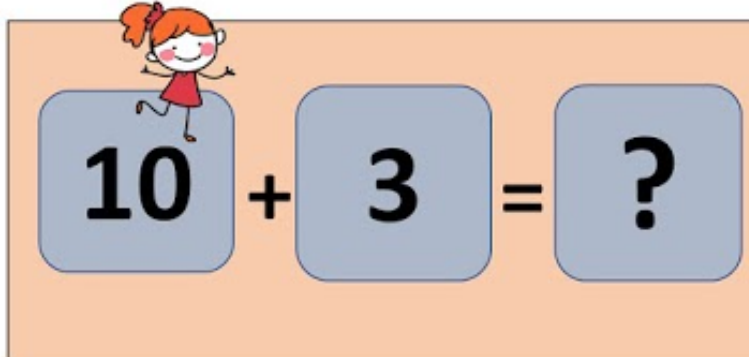


Marca solo un óvalo.

- a) 10
- b) 12
- c) 16

7. 5. ¿Cuál es el resultado de esta adición? *

2 puntos



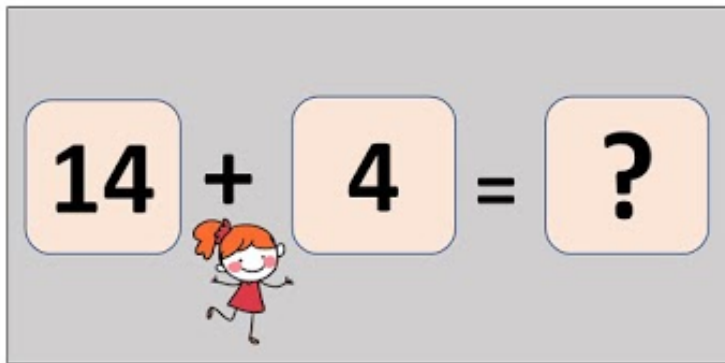
10 + **3** = **?**

Marca solo un óvalo.

- a) 7
- b) 13
- c) 15

8. 6. Resuelve la adición. *

2 puntos



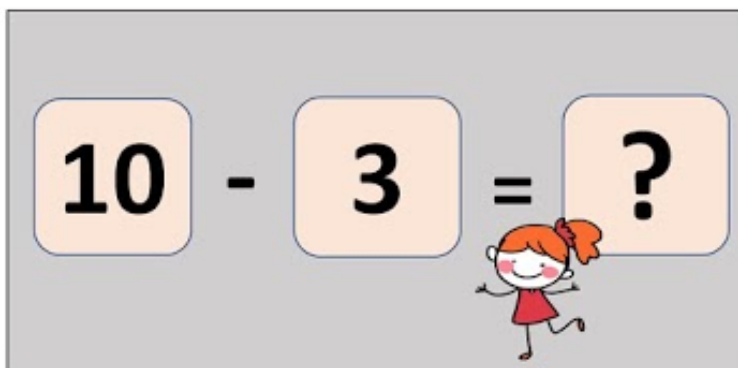
A rectangular box with a light gray background. Inside, the equation $14 + 4 = ?$ is displayed. Each number and symbol is inside a light orange rounded square. A cartoon girl with red hair in pigtails, wearing a red dress and glasses, is running from left to right across the bottom of the box.

Marca solo un óvalo.

- a) 14
- b) 16
- c) 18

9. 7. Resuelve la sustracción. *

2 puntos




A rectangular box with a light gray background. Inside, the equation $10 - 3 = ?$ is displayed. Each number and symbol is inside a light orange rounded square. A cartoon girl with red hair in pigtails, wearing a red dress and glasses, is running from left to right across the bottom of the box.

Marca solo un óvalo.

- a) 7
- b) 10
- c) 13

10. 8. ¿Cuál es el resultado de esta sustracción? *

2 puntos

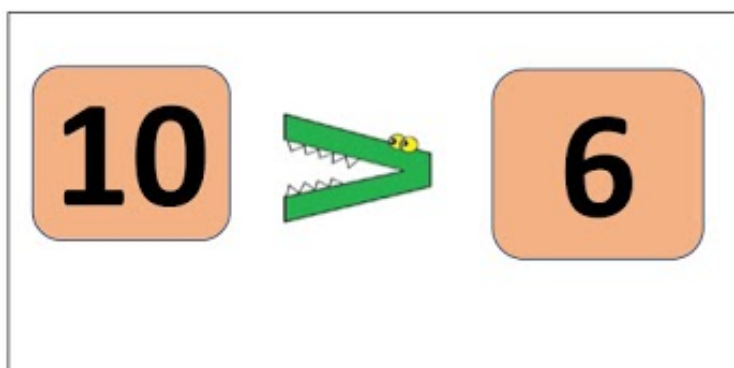


Marca solo un óvalo.

- a) 20
- b) 10
- c) 0

11. 9. ¿Mayor, menor o igual? *

2 puntos

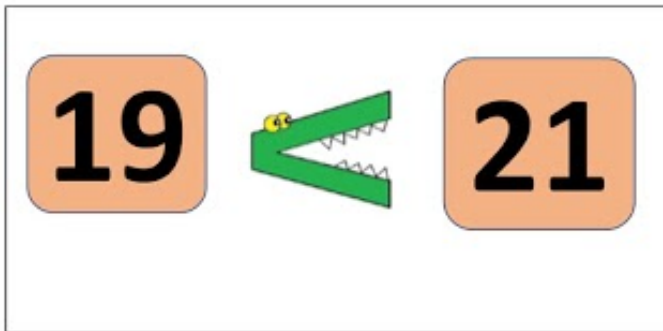


Marca solo un óvalo.

- a) 10 es menor que 6
- b) 10 es mayor que 6
- c) 10 es igual a 6

12. 10. ¿Mayor, menor o igual? *

2 puntos




Marca solo un óvalo.

- a) 19 es menor que 21
- b) 19 es mayor que 21
- c) 19 es igual a 19

13. 11. Observa el patrón ¿Qué figura continúa la secuencia? *

2 puntos




Marca solo un óvalo.

- a) Estrella
- b) cuadrado
- c) corazón

14. 12. ¿Qué figura continúa la secuencia? *

2 puntos

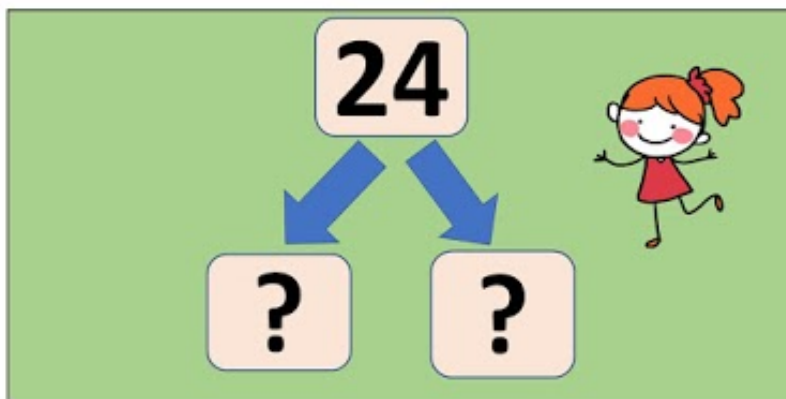


Marca solo un óvalo.

- a) Nube
- b) Sol
- c) Luna

15. 13. ¿Qué número sumado con otro da 24?

2 puntos

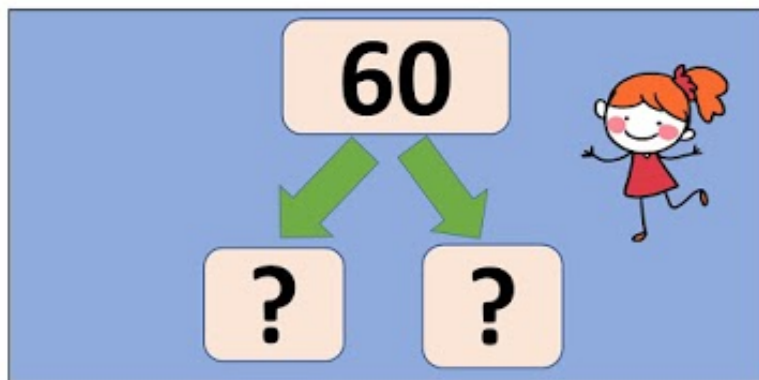


Marca solo un óvalo.

- a) 10 y 12
- b) 20 y 4
- c) 16 y 4

16. 14. ¿Qué número sumado con otro da como resultado 60? *

2 puntos



Marca solo un óvalo.


a) 40 y 20

b) 10 y 30

c) 20 y 20

17. 15. ¿Qué número representa la multibase? *

2 puntos



Marca solo un óvalo.


a) 12

b) 14

c) 16

18. 16. ¿Qué número representa la multibase? *

2 puntos



Marca solo un óvalo.

- a) 6
- b) 24
- c) 42

Este contenido no ha sido creado ni aprobado por Google.

Google Formularios