



COLEGIO DOMINGO EYZAGUIRRE
 SAN BERNARDO
 ASIGNATURA: MÚSICA
 PROFESOR: EDUARDO NIETO C.

Guía Pedagógica N°3

Nombre:	Curso: 4° Básico
Fecha inicio:	Fecha: Julio 2021

Descripción Curricular de la Evaluación





Nivel	N° 2 (2020)
EJE	Escuchar y apreciar
Objetivos	OA1
Habilidades a evaluar	Expresión musical mediante lenguaje y escritura

Instrucciones:

Lee, desarrolla y/o responde la siguiente guía de trabajo. Debes entregar esta guía en el colegio a más tardar el 31 de Julio, la que será calificada.

Cualquier consulta debes realizarla al correo: eduardonietoc@gmail.com, o al teléfono WhatsApp: +569 6320 0437 en horario de 08:00 hasta las 18:00 hrs.

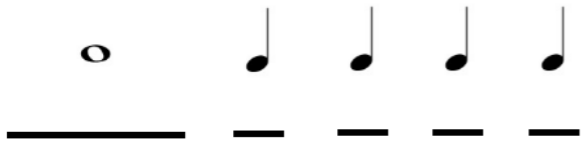
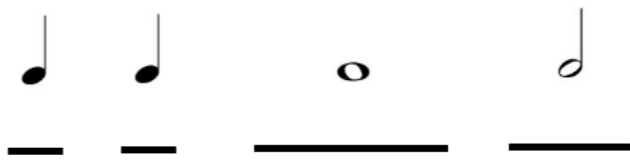


LAS FIGURAS MUSICALES

<p>1) La primera y más larga en tiempo de las figuras se llama REDONDA y se dibuja así: </p> <p> <i>taaaa</i> </p> <p>(Una letra T para comenzar y cuatro letras A, todas juntas)</p>
<p>La BLANCA tiene una duración de dos tiempos o dos segundos y se puede leer en voz alta</p> <p> <i>taa</i> </p> <p>(Una letra T para comenzar y dos letras A, todas juntas)</p>
<p>3) La tercera de las figuras se llama NEGRA y se dibuja así: </p> <p> <i>ta</i> </p> <p>(Una letra T para comenzar y una letra A, todas juntas)</p>

ACTIVIDADES

Actividad 1: Escribe con la letra más clara que puedas, la palabra que corresponde a cada figura musical. Luego de resolver los ejercicios, léelos en voz alta y clara.

Ejemplo: 

Actividad 2: ¡En esta actividad tendrás que sumar y restar! Las figuras musicales que hemos visto hasta ahora (**REDONDA, BLANCA, NEGRA**) tienen un valor de tiempo, representado en la cantidad de tiempos o segundos (Página 1). En la siguiente actividad debes sumar o restar los números que le corresponden a cada figura.

Ejemplo: 