



COLEGIO DOMINGO EYZAGUIRRE
SAN BERNARDO
ASIGNATURA: MÚSICA
PROFESOR: EDUARDO NIETO C.

Guía Pedagógica N°3

Nombre:	Curso: 5° Básico
Fecha inicio:	Fecha: Julio 2021

Descripción Curricular de la Evaluación

Nivel	N° 2 (2020)
EJE	Escuchar y apreciar
Objetivos	OA6
Habilidades a evaluar	Aplicación del lenguaje musical y la práctica instrumental

Instrucciones:

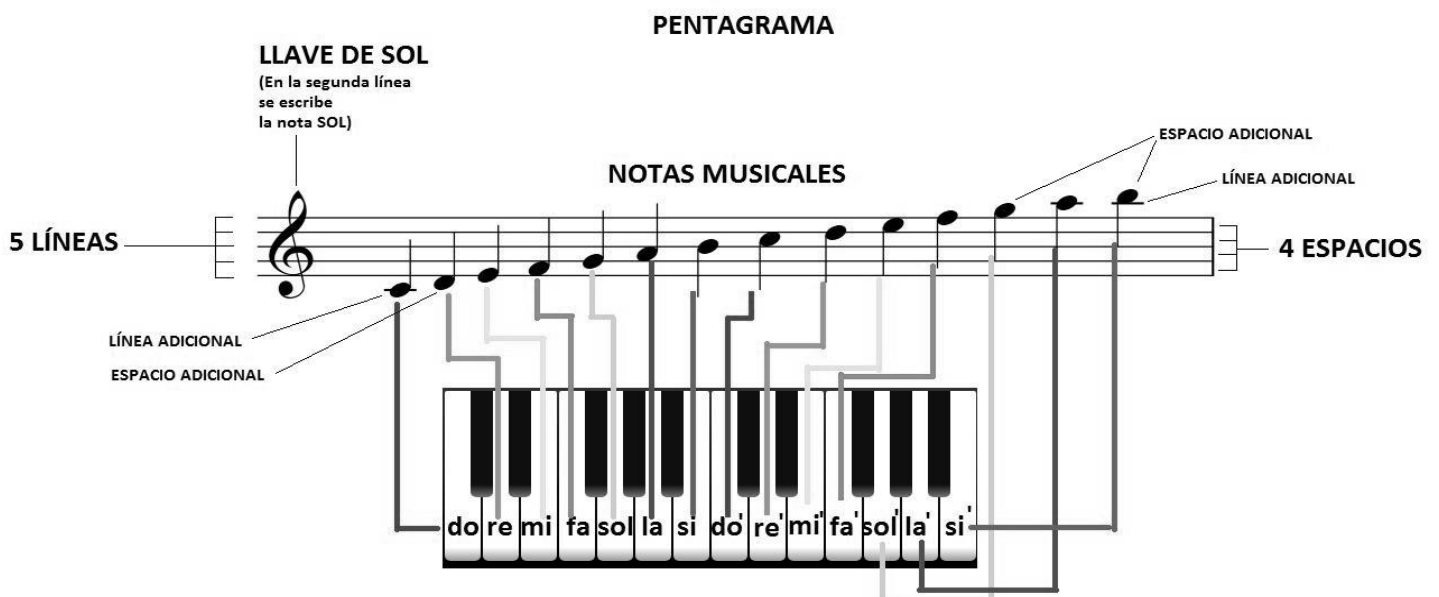
Lee, desarrolla y/o responde la siguiente guía de trabajo. Debes entregar esta guía en el colegio a más tardar el 31 de Julio, la que será calificada.

Cualquier consulta debes realizarla al correo: eduardonietoc@gmail.com, o al teléfono WhatsApp: +569 6320 0437 en horario de 08:00 hasta las 18:00 hrs.

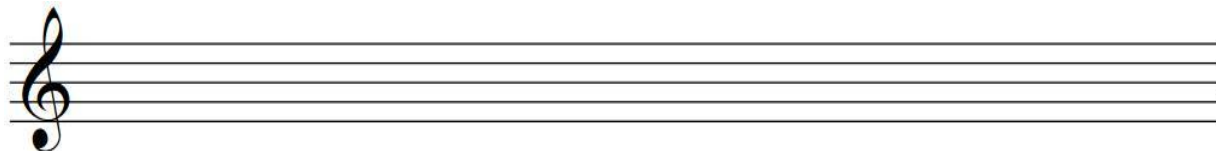
ACTIVIDADES

En estas actividades trabajaremos con las **NOTAS MUSICALES**, para aprender cómo se escriben y cómo se pueden tocar en algún instrumento musical o virtual. También podrán entender el nombre de las notas con el diagrama de un piano.


EL PENTAGRAMA: El pentagrama es un conjunto de **5 líneas** y **cuatro espacios** donde se ordenan las **NOTAS MUSICALES** para saber a qué nota corresponde cada espacio y línea. También se pueden escribir **líneas y espacios adicionales** para agregar más notas al pentagrama si es necesario. Otro elemento importante en los pentagramas es la **LLAVE DE SOL**, signo que permite ordenar las **NOTAS MUSICALES**, comprendiendo que en la segunda línea de abajo hacia arriba se ubica la nota **SOL** y así, se pueden ubicar todas las demás notas.




Actividad 1: Escribe una figura de **redonda** () en cada espacio del pentagrama. Luego escribe las notas que corresponden a cada espacio.(5 pts)





Actividad 2: Escribe una figura de **redonda** () en cada línea del pentagrama. Luego escribe las notas que corresponden a cada espacio.(4 pts)




Actividad 3: Escribe el nombre de cada nota musical que está ubicada en el pentagrama.(16pts)






Actividad 5: Escribe con una figura de **redonda** () cada nota musical que corresponda en su espacio o línea correspondiente (no sobrepasar la tercera línea o línea del medio del pentagrama)(9 pts)



SOL LA SI MI FA SOL RE FA DO'

Actividad 6: La siguiente melodía pertenece al videojuego **Geometry Dash** y su nombre es 'Stereomadness'

Si logras escribir las notas del pentagrama de esta canción, ¡podrás tocarla en un teclado o en un piano virtual!



<https://www.youtube.com/watch?v=HW41UNoIUec>

