

Prueba de Matemática N°2 Segundo año

OA9 Demostrar que comprende la adición y la sustracción en el ámbito del 0 al 100: usando un lenguaje cotidiano y matemático para describir acciones desde su propia experiencia; resolviendo problemas con una variedad de representaciones concretas y pictóricas, de manera manual y/o usando software educativo

Habilidades: Resolver problemas: Emplear diversas estrategias para resolver problemas

***Obligatorio**

1. Nombre y apellido *


PROBLEMAS MATEMÁTICOS

Lee atentamente cada situación, resuelve con la estrategia que más te guste y responde.

2. 1. *

2 puntos

Camila tenía 25 lápices y perdió 5
¿Cuántos lápices le quedaron?


$$\boxed{25} - \boxed{5} = \boxed{}$$


Marca solo un óvalo.

- a) 20
- b) 25
- c) 30

3. 2. *

2 puntos

Elisa tiene 16 fichas y Juan tiene 13
¿Cuántas fichas hay en total?


$$16 + 13 = \square$$


Marca solo un óvalo.

- a) 13
- b) 23
- c) 29

4. 3. *

2 puntos

Pamela tenía 12 caramelos y su hermana le regaló 6
¿Cuántos caramelos tiene en total?


$$12 + 6 = \square$$


Marca solo un óvalo.

- a) 6
- b) 18
- c) 81

5. 4. *

2 puntos

Había 40 personas en el bus. En la siguiente parada se bajaron 20
¿Cuántas personas quedaron en el bus?


$$\boxed{40} - \boxed{20} = \boxed{}$$

Marca solo un óvalo.

- a) 20
- b) 40
- c) 60

6. 5. *

2 puntos

Mario tenía 10 galletas y se comió 3
¿Cuántas galletas le quedaron?

$$\boxed{10} - \boxed{3} = \boxed{}$$



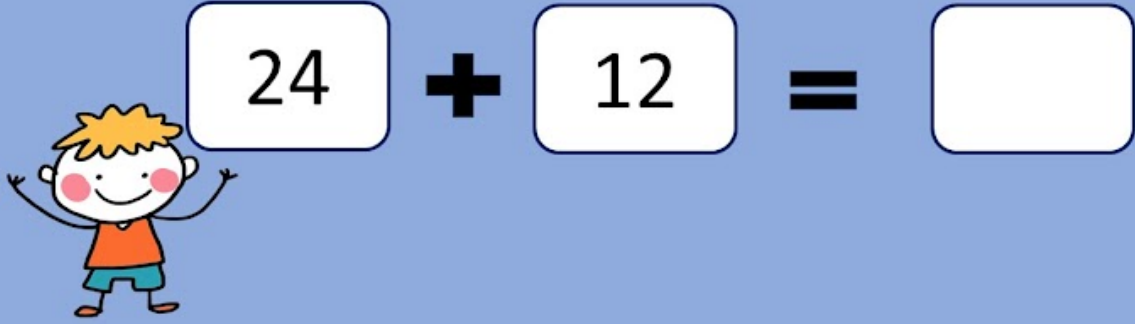
Marca solo un óvalo.

- a) 13
- b) 20
- c) 7

7. 6 *

2 puntos

Tenía 24 pelotas y me regalaron 12
¿Cuántas pelotas tengo en total?



$$24 + 12 = \square$$

Marca solo un óvalo.

- a) 36
- b) 12
- c) 63

8. 7 *

2 puntos



Hay 42 flores rojas y
34 flores blancas.
¿Cuántas flores hay en total?

$$\boxed{42} + \boxed{34} = \boxed{}$$

Marca solo un óvalo.

- a) 46
- b) 76
- c) 8

9. 8 *

2 puntos

Tenía 28 manzanas. Me comí
15 ¿Cuántas me quedaron?

$$\boxed{28} - \boxed{15} = \boxed{}$$



Marca solo un óvalo.

- a) 13
- b) 43
- c) 34

¡Muy buen trabajo! 😊👍

Este contenido no ha sido creado ni aprobado por Google.

Google Formularios