



COLEGIO DOMINGO EYZAGUIRRE SAN BERNARDO // EL BOSQUE

ASIGNATURA: Historia y Geografía

PROFESOR (a): Claudia Bustamante / Katuska Alarcón

Nombre:	Curso: 3° año
Fecha inicio:	Puntaje deseado 31 pts

Descripción Curricular de la Evaluación

Nivel	N° 1
EJE	Geografía
Objetivos (sólo los números)	OA 7/OA 8
Habilidades a evaluar	Ubicar, identificar

- Lee atentamente los **enunciados** antes de desarrollarla guía.
- Para trabajar recuerda utilizar lápiz grafito.
- No realices todas las actividades de una vez. Toma descansos de a lo menos 15 minutos para continuar con el trabajo.
- Cualquier duda puedes consultar al siguiente correo electrónico

k.alarcon@colegiodomingoeyzaquirre.cl 3°A c.bustamanteserey@gmail.com 3°B



Sabías que un **continente** es cada una **de** las grandes extensiones **en** que se divide la superficie terrestre, separadas entre sí **por los** océanos. Los océanos son aquellas partes **de** la superficie del planeta ocupadas por agua marina que rodean a **los continentes y** que cubren actualmente alrededor del 71% **de** la Tierra. Para profundizar en el tema te invito a revisar el siguiente video https://www.youtube.com/watch?v=YC76paJ1_Zs

I Observa la siguiente imagen y pinta los continentes y los océanos
6 pts

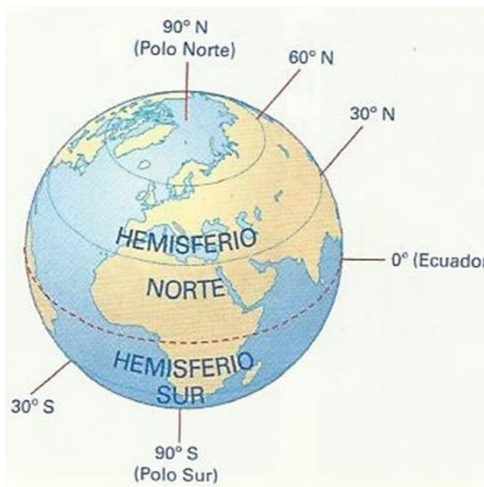
Asia: amarillo
Europa: rojo
África: verde
América: anaranjado
Oceanía: café
Océanos: celeste



II Después de observar las imágenes y el video responde las siguientes preguntas 6 pts

A. Nombra los continentes y los océanos que los rodean

- 1 _____
- 2 _____
- 3 _____
- 4 _____
- 5 _____
- 6 _____



Nuestro planeta tiene paralelos estos son línea del ecuador. Esta cruza la tierra por la mitad y la divide en hemisferio norte desde la línea del ecuador hacia arriba y hemisferio sur de la línea de ecuador hacia abajo.

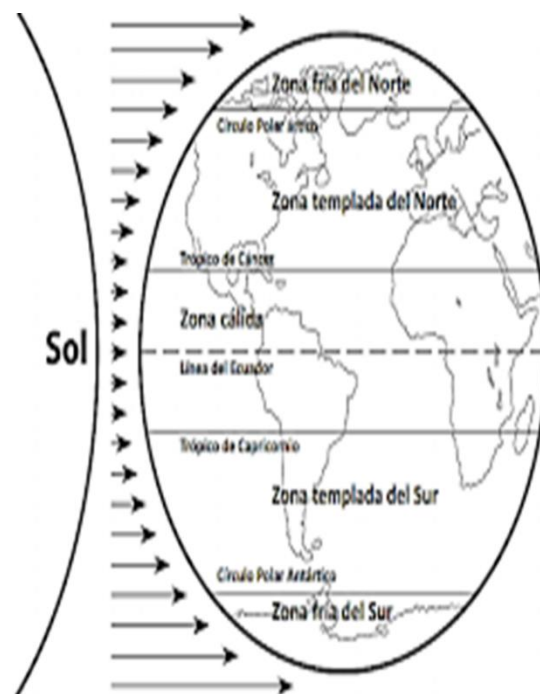
Además, encontramos los paralelos del trópico de cáncer y círculo polar ártico en el hemisferio norte y en el hemisferio sur trópico de capricornio y círculo polar Antártico

III Con las indicaciones anteriores Pinta la zona cálida o tropical de amarillo, la zona templada de verde y la zona fría de azul 3 pts

Las **zonas climáticas** son las **zonas** con climas distintos, que se producen en la dirección de este a oeste alrededor de la Tierra, y se pueden clasificar utilizando diferentes parámetros **climáticos**. ... De este modo, la luz del sol calienta la Tierra alrededor del ecuador con mucha más fuerza que en los polos.

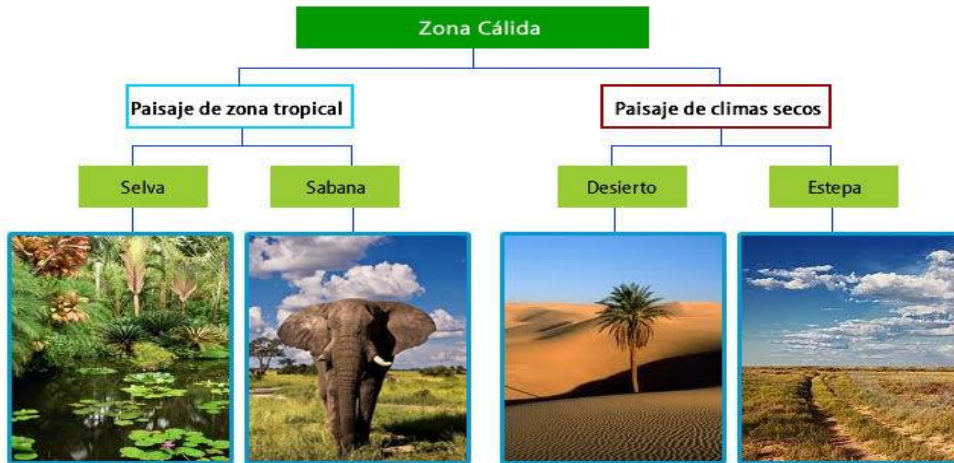
Zona cálida o tropical entre los trópicos de cáncer y capricornio, zona templada en el hemisferio norte entre trópico de cáncer y círculo polar ártico y zona fría del norte arriba de la línea del círculo polar ártico

Además, esta ala zona templada del sur entre el trópico de capricornio y el alineal del círculo polar antártico y zona fría debajo de la línea del círculo polar antártico.



PAISAJE ZONA CALIDA O TROPICAL

Zona cálida o tropical: la zona más calurosa del planeta está ubicada entre los trópicos de Cáncer y Capricornio, allí los rayos solares llegan más directos y en forma perpendicular a la línea del Ecuador.



IV Observa los paisajes y escribe en que se relacionan. 2 pts

PAISAJE DE LA ZONA TEMPLADA

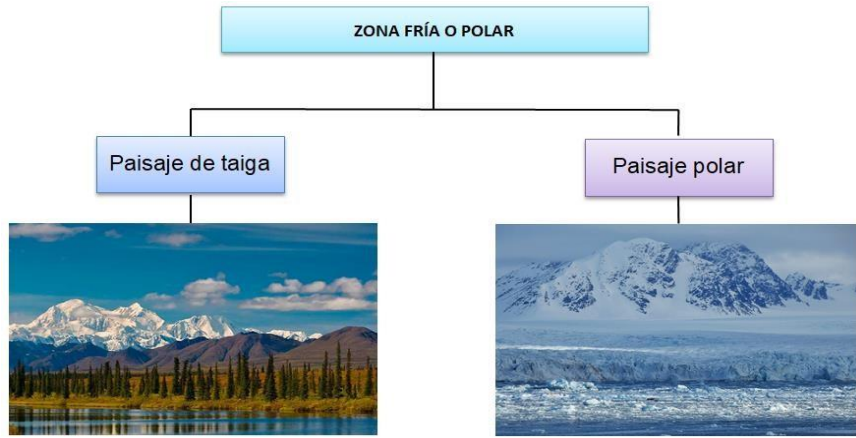
En las zonas templadas, ubicadas entre los trópicos y los círculos polares, habita la mayor parte de los seres humanos y, al igual que en la zona cálida, existen distintos paisajes



Observa fotografías de tu localidad ¿Se parecen a alguna de las imágenes anteriores? 2pts

PAISAJE DE LA ZONA FRÍA

Las zonas frías se encuentran entre los círculos polares y los polos, donde los rayos del sol llegan inclinados, lo que explica la existencia de bajas temperaturas y escasa vegetación. Estas condiciones dan origen a los paisajes fríos



1) ¿Haz visitado algún lugar así? ¿Cómo deberías prepararte para estar en un paisaje de zona fría? 2pts

2) Escoge dos paisajes de estas páginas y establece similitudes y diferencias entre ellos. Considera el clima y la vegetación. 2pts

3) Elije uno de los paisajes vistos en clase y compáralo con el de tu región.

Considera las siguientes características: 4pts

Temperatura	Vestimenta	Flora	Casas



La mayor parte del territorio habitado de Chile se ubica en la zona templada

Colorea el mapa de Chile y destaca al menos 1 paisaje por zona climática que se encuentre en el país. Para esto debes:

- Colorear cada región de Chile
- Marcar el número de cada región
- Marcar la región que elegiste y agregar una imagen del paisaje presente en el lugar 4pts

