

COLEGIO DOMINGO EYZAGUIRRE
SAN BERNARDO // EL BOSQUE



ASIGNATURA: MATEMÁTICA
PROFESOR (a): ANNIA DOMÍNGUEZ RAMÍREZ
ASISTENTE DE AULA: GABRIELA LEIVA DÍAZ



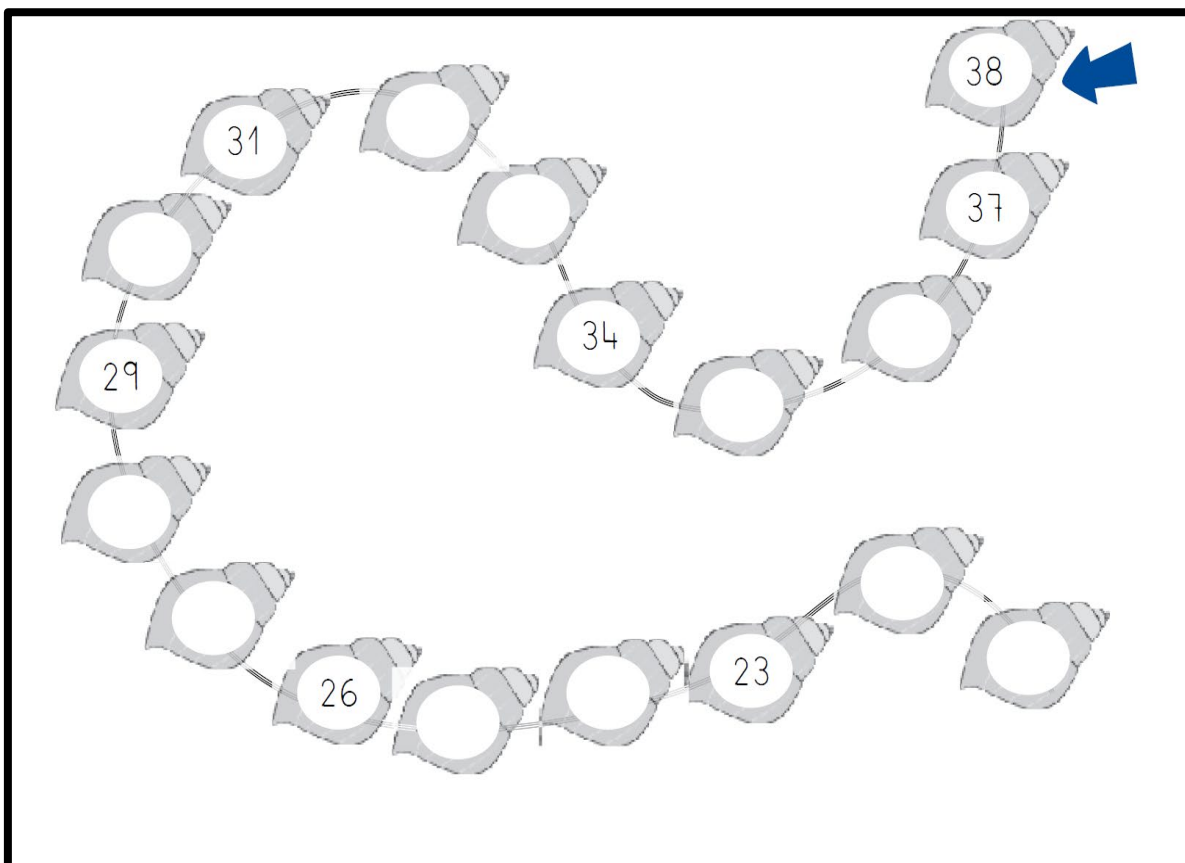
Guía Pedagógica 5

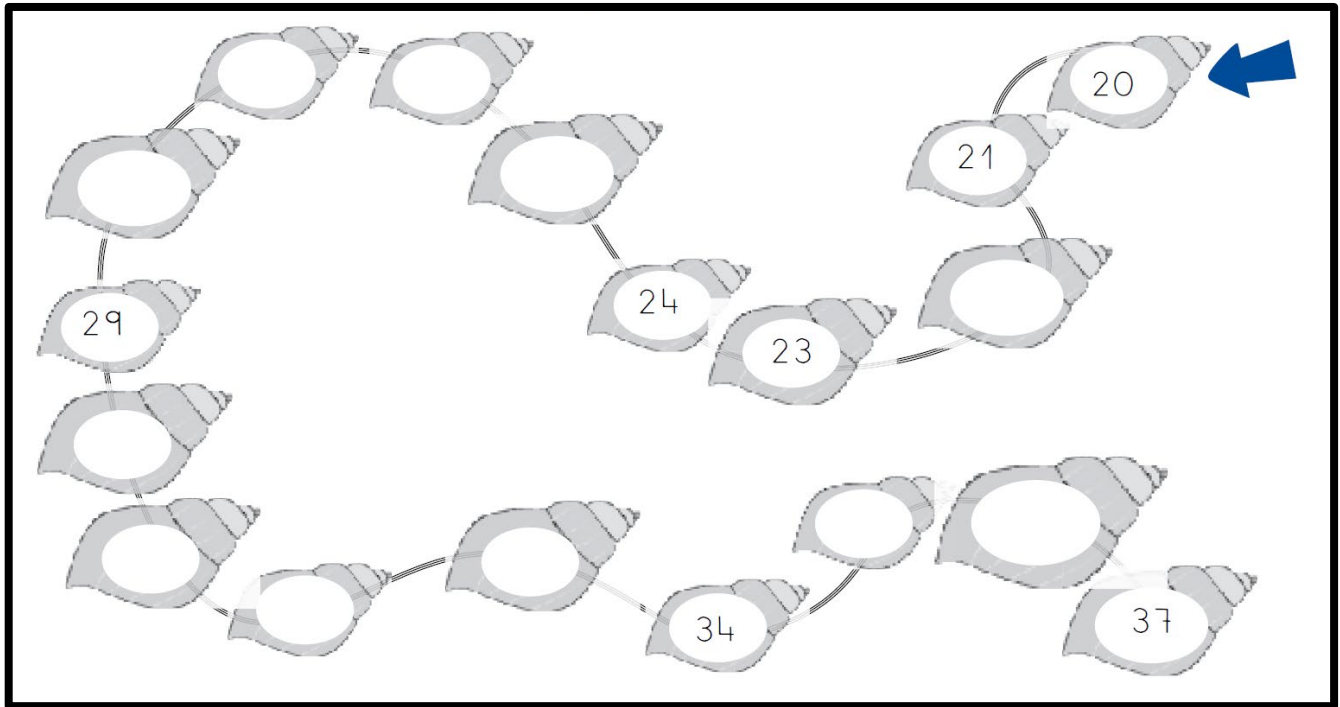
Nombre:	Curso: 1er Año
Fecha inicio:	Fecha Término

Descripción Curricular de la Evaluación


Nivel	N°2
Eje	Números y operaciones
Habilidades a evaluar	Representar, argumentar, comunicar

1.- Completa los números.





2.- Observa la tabla del 100 y completa los números ocultos.

Tabla del 100									
1	2	3	4	5	6	7	8	9	10
11	12	13	14	15	16	17	18	19	20
21		23	24	25	26		28	29	30
31	32	33	34	35	36	37	38	39	40
41	42	43	44	45	46	47	48	49	50
51	52		54	55	56	57	58	59	60
61	62	63	64	65	66	67	68	69	70
71	72	73	74	75	76	77	78	79	80
81	82	83	84	85	86	87	88		90
91	92	93	94	95	96	97	98	99	100

- a) ¿En qué número se encuentra el perro? 27
- b) ¿En qué número se encuentra el conejo? _____
- c) ¿En qué número se encuentra el pez? _____
- d) ¿En qué número se encuentra el pato? _____

3.- Marca con una x la opción correcta:

El 40 está antes del:

20 40 60

El 80 está entre el:

10 y 30 30 y 50 70 y 90

El 70 está después del:

50 80 90

El 30 está entre el:

20 y 40 30 y 50 60 y 80

4.- Cuenta hacia atrás (descendente) de 1 en 1 desde los números que se indican.

- a) Cuenta hacia atrás de 1 en 1 desde el número **41**.

41							
----	--	--	--	--	--	--	--

- b) Cuenta de 2 en 2 hacia adelante desde el número **78**.

78							
----	--	--	--	--	--	--	--

- c) Cuenta de 5 en 5 hacia atrás desde el número **95**.

95							
----	--	--	--	--	--	--	--

5.-Completa:

a) Cuenta de _____ en _____ hacia adelante desde el número 55.

55	57	59	61	63	65	67	69	71	73	75	77
----	----	----	----	----	----	----	----	----	----	----	----

b) Cuenta de _____ en _____ hacia adelante desde el número 10.

10	15	20	25	30	35	40	45	50	55	60	65
----	----	----	----	----	----	----	----	----	----	----	----

c) Cuenta de _____ en _____ hacia atrás desde el número 99.

99	97	95	93	91	89	87	85	83	81	79	77
----	----	----	----	----	----	----	----	----	----	----	----

6.-Sigue las indicaciones y completa

a) Cuenta de 10 en 10 hacia adelante desde el número **13**.

13							
----	--	--	--	--	--	--	--

b) Cuenta de 10 en 10 hacia atrás desde el número **96**.

96							
----	--	--	--	--	--	--	--

c) Cuenta de _____ en _____ hacia _____ desde el número **73**.

73	63	53	43	33	23	13	3
----	----	----	----	----	----	----	---

d) Cuenta de _____ en _____ hacia _____ desde el número **54**.

54	44	34	24	14	4
----	----	----	----	----	---

7.- ¿Cuál es la regla del patrón que siguen las siguientes secuencias?

13	15	17	19	21	23
----	----	----	----	----	----

La regla del patrón es agregar o sumar:

43	48	53	58	63	68
----	----	----	----	----	----

La regla del patrón es agregar o sumar:

66	56	46	36	26	16
----	----	----	----	----	----

La regla del patrón es quitar o restar:
