



COLEGIO DOMINGO EYZAGUIRRE
SAN BERNARDO/ EL BOSQUE
ASIGNATURA: Matemática
PROFESOR (a): Claudia Bustamante

Guía Pedagógica N°5 Matemática

Nombre:	Curso: 6° Básico ____
Fecha inicio: 01/10/2021	Fecha Término: 15/10/2021

Puntaje: 15 pts.

Descripción Curricular de la Evaluación

Nivel	N° 1
EJE	Números y operaciones Álgebra
Objetivos (sólo los números)	OA13 – OA18
Habilidades a evaluar	<i>Argumentar y comunicar</i> <i>Modelar</i>

INSTRUCCIONES

- Lee atentamente los **enunciados** antes de desarrollarla guía.
- Para trabajar recuerda utilizar lápiz grafito.
- No realices todas las actividades de una vez. Toma descansos de a lo menos 15 minutos para continuar con el trabajo.
- Cualquier duda puedes consultar al siguiente correo electrónico

c.bustamante@colegiodomingoeyzaguirre.cl

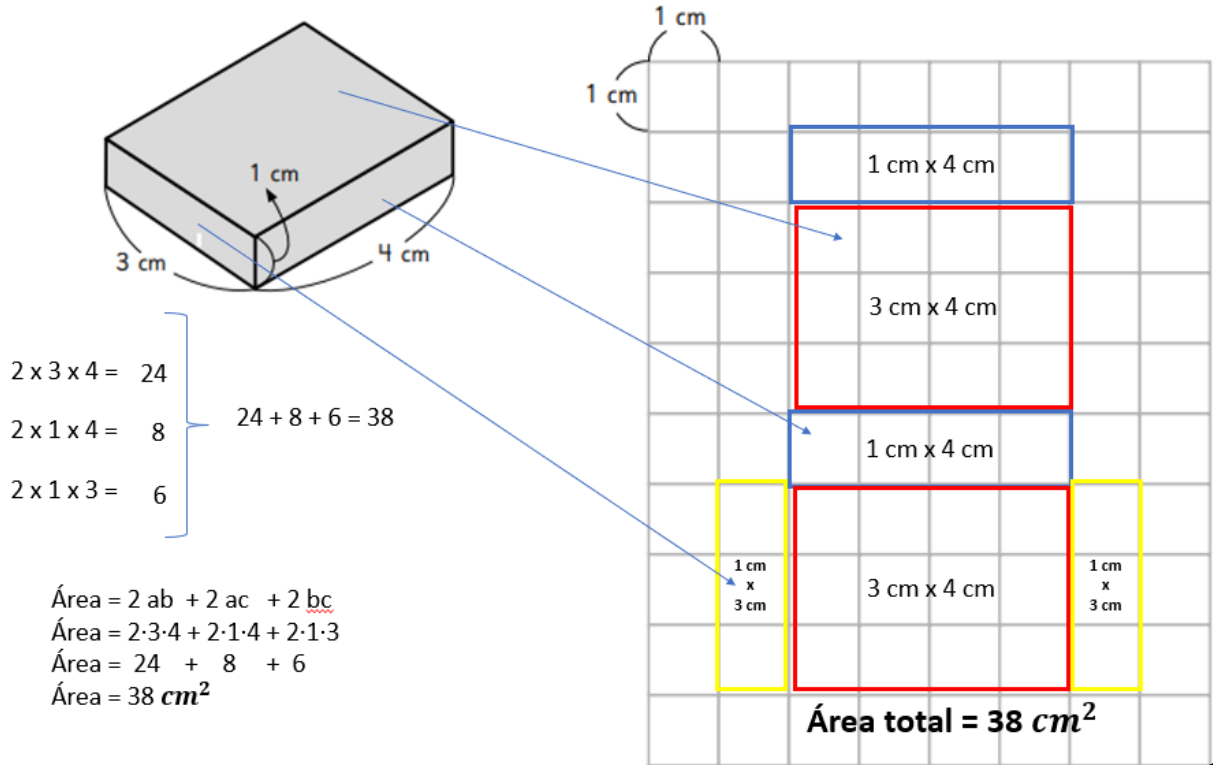
whatsapp +56963200448



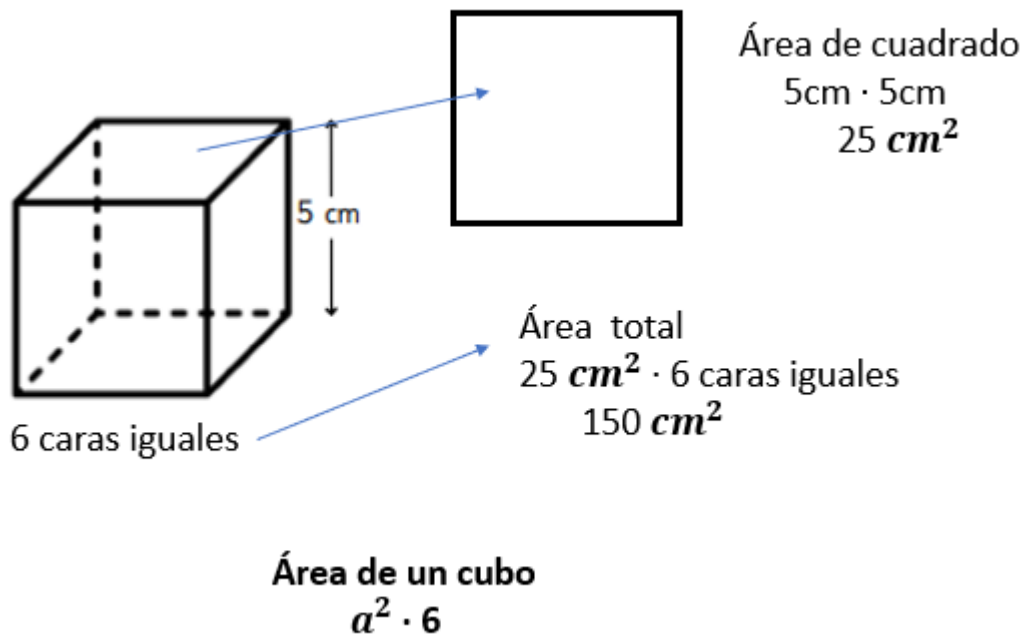
HI!

¡Hola queridos estudiantes! Te invito a desarrollar esta guía para que sigas aprendiendo desde casa. No duden en escribirme si lo necesitan.

Área de paralelepípedo.

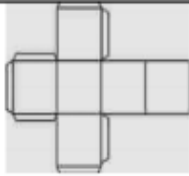
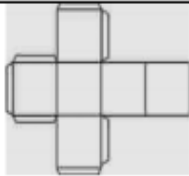
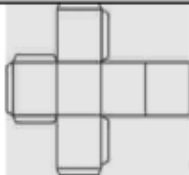


Área de cubo.



- I. Para realizar esta actividad observa tu texto del estudiante tomo 1.
 “Capítulo 13, página 42 a la 51.”

1. Calcula el área de los siguientes cubos. (6pts.)

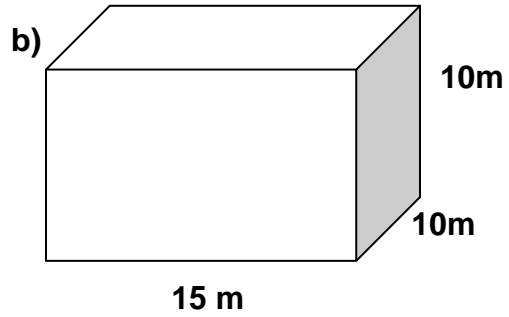
Red del cubo - medida arista	Área de una cara	Área total del cubo
 <p>4 cm de arista</p>		
 <p>3 cm de arista</p>		
 <p>6 cm de arista</p>		

2. Calcula el área de los siguientes paralelepípedos.
 Realiza los cálculos en el espacio indicado(9pts.)




Calcular:

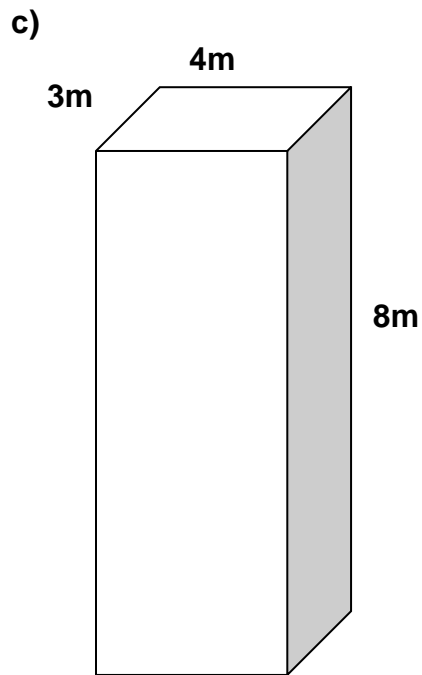
Respuesta: _____




Calcular:



Respuesta: _____



Calcular:



Respuesta: _____

BYE!

